

Тема 18. Тригонометричні рівняння

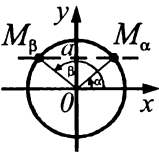
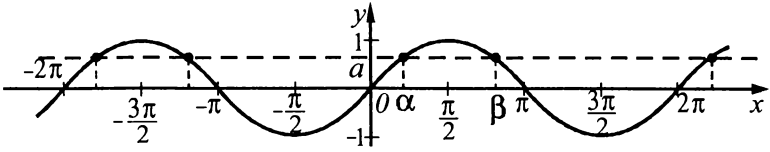
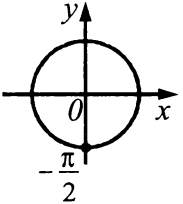
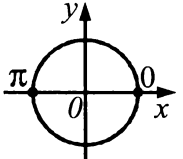
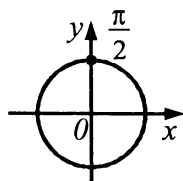
Тригонометричними називають рівняння, які містять змінну під знаком тригонометричних функцій.

Найпростіші тригонометричні рівняння

Рівняння виду $\sin x = a$, $\cos x = a$, $\operatorname{tg} x = a$, $\operatorname{ctg} x = a$, де x — невідома величина, a — довільне дійсне число, називають *найпростішими тригонометричними рівняннями*.

1. Рівняння $\sin x = a$.

Оскільки $-1 \leq \sin x \leq 1$ для будь-якого x , то якщо $a > 1$ або $a < -1$, рівняння $\sin x = a$ не має коренів. Для того, щоб розв'язати рівняння $\sin x = a$, досить знайти на одиничному колі або графіку відповідної функції такі точки, ординати яких дорівнюють a . Якщо пряма $y = a$ перетинає одиничне коло (графік) у точках M_α і M_β , то кути α і β є коренями рівняння $\sin x = a$.

$\sin x = a$ $ a \leq 1$ $\sin x = a \Leftrightarrow \begin{cases} x = \arcsin a + 2\pi k, k \in \mathbf{Z}; \\ x = \pi - \arcsin a + 2\pi k, k \in \mathbf{Z}. \end{cases}$ Ці формули можна об'єднати в одну: $x = (-1)^k \arcsin a + \pi k, k \in \mathbf{Z}$.		
		$\alpha = \arcsin a; \quad \beta = \pi - \arcsin a$
Окремі випадки		
$a = -1$ $\sin x = -1$ $x = -\frac{\pi}{2} + 2\pi k, k \in \mathbf{Z}$ 	$a = 0$ $\sin x = 0$ $x = \pi k, k \in \mathbf{Z}$ 	$a = 1$ $\sin x = 1$ $x = \frac{\pi}{2} + 2\pi k, k \in \mathbf{Z}$ 

Наприклад:

1. Розв'язати рівняння $\sin x = \frac{1}{2}$. Використаємо формулу коренів рівняння: $x = (-1)^k \arcsin a + \pi k$, $k \in \mathbf{Z}$; $x = (-1)^k \arcsin \frac{1}{2} + \pi k, k \in \mathbf{Z}$; $x = (-1)^k \frac{\pi}{6} + \pi k, k \in \mathbf{Z}$.

Відповідь. $(-1)^k \frac{\pi}{6} + \pi k, k \in \mathbf{Z}$.

2. Розв'язати рівняння $\sin x = -\frac{1}{2}$. Маємо: $x = (-1)^k \arcsin \left(-\frac{1}{2}\right) + \pi k, k \in \mathbf{Z}$; $x = (-1)^k \left(-\frac{\pi}{6}\right) + \pi k, k \in \mathbf{Z}$; $x = (-1)^{k+1} \frac{\pi}{6} + \pi k, k \in \mathbf{Z}$.

Відповідь. $(-1)^{k+1} \frac{\pi}{6} + \pi k, k \in \mathbf{Z}$.

3. Знайти найменший розв'язок рівняння $\sqrt{2} - 2\sin\frac{\pi x}{9} = 0$, який задовольняє умову $0 < x < 10$. За-

пишемо рівняння у вигляді: $\sin\frac{\pi x}{9} = \frac{\sqrt{2}}{2}$, тоді $\frac{\pi x}{9} = (-1)^k \frac{\pi}{4} + \pi k$, $k \in \mathbf{Z}$; $x = (-1)^k \frac{9}{4} + 9k$, $k \in \mathbf{Z}$. Якщо $k < 0$, то $x < 0$; якщо $k = 0$, то $x = (-1)^0 \frac{9}{4} + 9 \cdot 0 = 2,25$, якщо $k = 1$, то $x = (-1)^1 \frac{9}{4} + 9 \cdot 1 = -2,25 + 9 = 6,75$. Оскільки $0 < x < 10$, то найменший розв'язок з цього проміжку дорівнює 2,25.

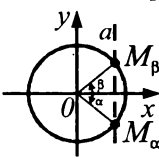
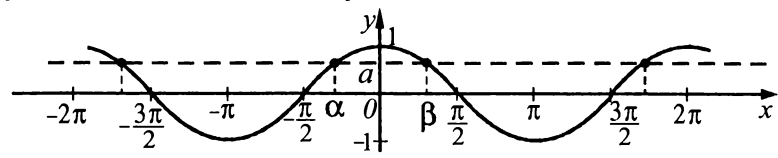
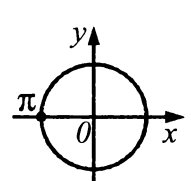
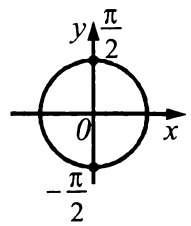
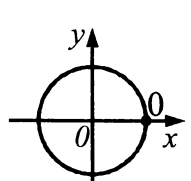
Відповідь. 2,25.

4. Розв'язати рівняння $\sin(\pi \cdot 4^x) = 0$. Використаємо формулу для випадку $\sin t = 0$, $t = \pi n$. Отже, $\pi \cdot 4^x = \pi n$; $4^x = n$, $n \in \mathbf{N}$, бо показникова функція набуває лише додатних значень, звідки $x = \log_4 n$.

Відповідь. $\log_4 n$.

2. Рівняння $\cos x = a$.

Оскільки $-1 \leq \cos x \leq 1$ для будь-якого x , то якщо $a > 1$ або $a < -1$, рівняння $\cos x = a$ не має коренів. Для того, щоб розв'язати рівняння $\cos x = a$, досить знайти на одиничному колі або графіку відповідної функції такі точки, абсциси (ординати) яких дорівнюють a . Якщо пряма $x = a$ перетинає одиничне коло (графік) у точках M_α і M_β , то кути α і β є коренями рівняння $\cos x = a$.

$\cos x = a$		
$ a \leq 1$		
$\cos x = a \Leftrightarrow \begin{cases} x = \arccos a + 2\pi k, k \in \mathbf{Z}; \\ x = -\arccos a + 2\pi k, k \in \mathbf{Z}. \end{cases}$		
Ці формули можна об'єднати в одну: $x = \pm \arccos a + 2\pi k, k \in \mathbf{Z}$.		
		
$\alpha = -\arccos a; \beta = \arccos a$		
Окремі випадки		
$a = -1$ $\cos x = -1$ $x = \pi + 2\pi k, k \in \mathbf{Z}$	$a = 0$ $\cos x = 0$ $x = \frac{\pi}{2} + \pi k, k \in \mathbf{Z}$	$a = 1$ $\cos x = 1$ $x = 2\pi k, k \in \mathbf{Z}$
		

Наприклад:

1. Розв'язати рівняння $2\cos x = 1$. Запишемо рівняння у вигляді: $\cos x = \frac{1}{2}$; $x = \pm \arccos \frac{1}{2} + 2\pi k$,

$k \in \mathbf{Z}$; $x = \pm \frac{\pi}{3} + 2\pi k, k \in \mathbf{Z}$.

Відповідь. $\pm \frac{\pi}{3} + 2\pi k, k \in \mathbf{Z}$.

2. Розв'язати рівняння $\cos 4x = -\frac{1}{2}$. Нехай $4x = t$, тоді $\cos t = -\frac{1}{2}$; $t = \pm \arccos\left(-\frac{1}{2}\right) + 2\pi k$, $k \in \mathbf{Z}$;

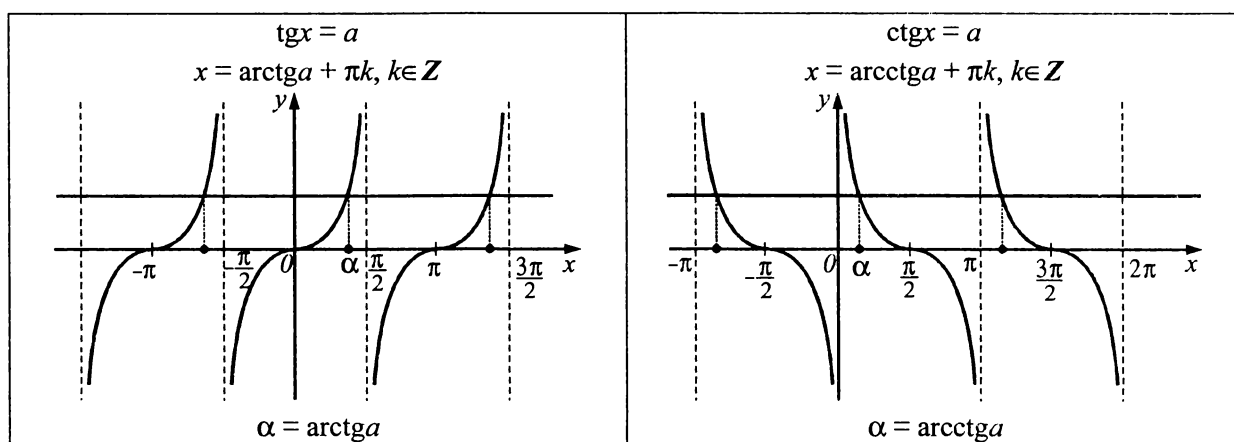
$t = \pm \frac{2\pi}{3} + 2\pi k$, $k \in \mathbf{Z}$. Повернемося до заміни: $4x = \pm \frac{2\pi}{3} + 2\pi k$, $k \in \mathbf{Z}$; $x = \pm \frac{\pi}{6} + \frac{\pi k}{2}$, $k \in \mathbf{Z}$.

Відповідь. $\pm \frac{\pi}{6} + \frac{\pi k}{2}$, $k \in \mathbf{Z}$.

3. Рівняння $\operatorname{tg} x = a$ і $\operatorname{ctg} x = a$.

Для будь-якого дійсного числа a на проміжку $\left(-\frac{\pi}{2}; \frac{\pi}{2}\right)$ існує тільки один кут α такий, що $\operatorname{tg} \alpha = a$. Це кут $\alpha = \operatorname{arctg} a$. Враховуючи періодичність функції $y = \operatorname{tg} x$, одержуємо формулу коренів рівняння $\operatorname{tg} x = a$: $x = \operatorname{arctg} a + \pi k$, $k \in \mathbf{Z}$.

Для будь-якого дійсного числа a на проміжку $(0; \pi)$ існує тільки один кут α такий, що $\operatorname{ctg} \alpha = a$. Це кут $\alpha = \operatorname{arcctg} a$. Враховуючи періодичність функції $y = \operatorname{ctg} x$, одержуємо формулу коренів рівняння $\operatorname{ctg} x = a$: $x = \operatorname{arcctg} a + \pi k$, $k \in \mathbf{Z}$.



Наприклад, розв'язати рівняння $3 \operatorname{tg}\left(\frac{5\pi}{6} - 2x\right) + \sqrt{3} = 0$. Запишемо дане рівняння у вигляді

$\operatorname{tg}\left(\frac{5\pi}{6} - 2x\right) = -\frac{\sqrt{3}}{3}$. Скористаємося формулами зведення й одержимо: $\operatorname{tg}\left(\pi - \frac{\pi}{6} - 2x\right) = -\frac{\sqrt{3}}{3}$;

$\operatorname{tg}\left(\pi - \left(2x + \frac{\pi}{6}\right)\right) = -\frac{\sqrt{3}}{3}$; $-\operatorname{tg}\left(2x + \frac{\pi}{6}\right) = -\frac{\sqrt{3}}{3}$; $\operatorname{tg}\left(2x + \frac{\pi}{6}\right) = \frac{\sqrt{3}}{3}$. Уведемо заміну $t = 2x + \frac{\pi}{6}$. Маємо:

$\operatorname{tg} t = \frac{\sqrt{3}}{3}$; $t = \operatorname{arctg} \frac{\sqrt{3}}{3} + \pi k$, $k \in \mathbf{Z}$; $t = \frac{\pi}{6} + \pi k$, $k \in \mathbf{Z}$. Повернемося до заміни: $2x + \frac{\pi}{6} = \frac{\pi}{6} + \pi k$, $k \in \mathbf{Z}$;

$2x = \pi k$, $k \in \mathbf{Z}$; $x = \frac{\pi k}{2}$, $k \in \mathbf{Z}$.

Відповідь. $\frac{\pi k}{2}$, $k \in \mathbf{Z}$.

Рівняння, що зводяться до квадратних

Нехай потрібно розв'язати рівняння $4 \cos^2 \frac{x}{2} - 8 \cos \frac{x}{2} + 3 = 0$. Уведемо нову змінну: $\cos \frac{x}{2} = t$, звідки одержимо рівняння: $4t^2 - 8t + 3 = 0$;

$\left[\begin{array}{l} t_1 = \frac{1}{2}; \\ t_2 = 1,5. \end{array} \right.$ Повернемося до заміни та розв'яжемо одержані рів-

няння: 1) $\cos \frac{x}{2} = \frac{1}{2}$; $\frac{x}{2} = \pm \arccos \frac{1}{2} + 2\pi k$, $k \in \mathbf{Z}$; $\frac{x}{2} = \pm \frac{\pi}{3} + 2\pi k$, $k \in \mathbf{Z}$; $x = \pm \frac{2\pi}{3} + 4\pi k$, $k \in \mathbf{Z}$; 2) $\cos \frac{x}{2} = 1,5$; $x \in \emptyset$.

Відповідь. $\pm \frac{2\pi}{3} + 4\pi k$, $k \in \mathbf{Z}$.

Рівняння виду $a \sin x + b \cos x = c$, де $a, b, c \in \mathbf{R}$

Рівняння цього виду розв'язують за допомогою введення допоміжного кута. Вважаючи, що $a^2 + b^2 \neq 0$, поділимо обидві частини вихідного рівняння на $\sqrt{a^2 + b^2}$ й одержимо:

$\frac{a}{\sqrt{a^2 + b^2}} \sin x + \frac{b}{\sqrt{a^2 + b^2}} \cos x = \frac{c}{\sqrt{a^2 + b^2}}$. Одержані коефіцієнти при $\sin x$ і $\cos x$ мають такі властивості:

ті: $\left| \frac{a}{\sqrt{a^2 + b^2}} \right| \leq 1$, $\left| \frac{b}{\sqrt{a^2 + b^2}} \right| \leq 1$, $\left(\frac{a}{\sqrt{a^2 + b^2}} \right)^2 + \left(\frac{b}{\sqrt{a^2 + b^2}} \right)^2 = 1$, тому можна стверджувати, що існує

такий кут φ , що, наприклад, $\frac{a}{\sqrt{a^2 + b^2}} = \cos \varphi$, $\frac{b}{\sqrt{a^2 + b^2}} = \sin \varphi$, $\frac{b}{a} = \operatorname{tg} \varphi$. Тоді останнє рівняння зводиться до найпростішого: $\sin x \cos \varphi + \cos x \sin \varphi = \frac{c}{\sqrt{a^2 + b^2}}$; $\sin(x + \varphi) = \frac{c}{\sqrt{a^2 + b^2}}$.

Наприклад, розв'язати рівняння $3 \sin x + 4 \cos x = 2$. Перетворимо рівняння: $3 \sin x + 4 \cos x = 2$;
 $\frac{3}{\sqrt{3^2 + 4^2}} \sin x + \frac{4}{\sqrt{3^2 + 4^2}} \cos x = \frac{2}{\sqrt{3^2 + 4^2}}$; $\frac{3}{5} \sin x + \frac{4}{5} \cos x = \frac{2}{5}$. Уведемо допоміжний кут: $\frac{3}{5} = \cos \varphi$,
 $\frac{4}{5} = \sin \varphi$. Оскільки $\sin \varphi > 0$ і $\cos \varphi > 0$, то за допоміжний кут φ можна взяти $\varphi = \arcsin \frac{4}{5}$. Тоді маємо:

$\sin x \cos \varphi + \cos x \sin \varphi = \frac{2}{5}$; $\sin(x + \varphi) = \frac{2}{5}$; $x = (-1)^k \arcsin \frac{2}{5} - \varphi + \pi k$, $k \in \mathbf{Z}$, де $\varphi = \arcsin \frac{4}{5}$.

Відповідь. $(-1)^k \arcsin \frac{2}{5} - \varphi + \pi k$, $k \in \mathbf{Z}$, де $\varphi = \arcsin \frac{4}{5}$.

Однорідні тригонометричні рівняння

Однорідні тригонометричні рівняння — це рівняння виду $a_0 \sin^n x + a_1 \sin^{n-1} x \cos x + a_2 \sin^{n-2} x \cos^2 x + \dots + a_{n-1} \sin x \cos^{n-1} x + a_n \cos^n x = 0$, де $a_0, a_1, a_2, \dots, a_n$ — дійсні числа, $n \geq 1$. Таке рівняння легко звести до рівняння відносно $\operatorname{tg} x$, якщо всі його члени поділити на $\cos^n x$. При цьому, якщо $a_0 \neq 0$, то ділення не спричиняє втрати коренів. Справді, якщо $\cos x = 0$, то початкове рівняння набуває вигляду $a_0 \sin^n x = 0$, звідки $\sin x = 0$, що неможливо, оскільки $\cos x$ і $\sin x$ одночасно не можуть дорівнювати нулю.

Наприклад, розв'язати рівняння $3 \sin^2 x - 2 \sin x \cos x - \cos^2 x = 0$. Поділимо обидві частини рівняння на $\cos^2 x \neq 0$: $\frac{3 \sin^2 x}{\cos^2 x} - \frac{2 \sin x \cos x}{\cos^2 x} - \frac{\cos^2 x}{\cos^2 x} = \frac{0}{\cos^2 x}$. Одержимо: $3 \operatorname{tg}^2 x - 2 \operatorname{tg} x - 1 = 0$. Уведемо заміну

$\operatorname{tg} x = t$ й матимемо: $3t^2 - 2t - 1 = 0$; $\begin{cases} t_1 = -\frac{1}{3}; \\ t_2 = 1. \end{cases}$ Повернемося до заміни:

1) $\operatorname{tg} x = -\frac{1}{3}$; $x = \operatorname{arctg} \left(-\frac{1}{3} \right) + \pi k$, $k \in \mathbf{Z}$; $x = -\operatorname{arctg} \frac{1}{3} + \pi k$, $k \in \mathbf{Z}$;

2) $\operatorname{tg} x = 1$; $x = \operatorname{arctg} 1 + \pi k$, $k \in \mathbf{Z}$; $x = \frac{\pi}{4} + \pi k$, $k \in \mathbf{Z}$.

Відповідь. $-\operatorname{arctg} \frac{1}{3} + \pi k$, $k \in \mathbf{Z}$; $\frac{\pi}{4} + \pi k$, $k \in \mathbf{Z}$.

Дробово-раціональні тригонометричні рівняння

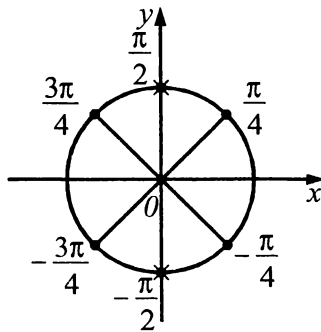
Складність розв'язування рівнянь цього типу полягає у формуванні відповіді. Основною складністю при розв'язуванні дробово-раціональних тригонометричних рівнянь є відбір його коренів.

Наприклад, розв'язати рівняння $\frac{\cos x + \cos 3x}{\sin 2x} = 0$. ОДЗ: $\sin 2x \neq 0$; $2x \neq \pi k$, $k \in \mathbf{Z}$; $x \neq \frac{\pi k}{2}$, $k \in \mathbf{Z}$.

Розв'яжемо рівняння $\cos x + \cos 3x = 0$; $2 \cos \frac{x+3x}{2} \cos \frac{x-3x}{2} = 0$; $2 \cos 2x \cos x = 0$. Тоді $\begin{cases} \cos x = 0; \\ \cos 2x = 0; \end{cases}$

$$\begin{cases} x = \frac{\pi}{2} + \pi n, n \in \mathbf{Z}; \\ x = \frac{\pi}{4} + \frac{\pi k}{2}, k \in \mathbf{Z}. \end{cases}$$

Зобразимо на одиничному колі точки, які відповідають кореням рівняння $\cos x = 0$ і $\cos 2x = 0$ і закреслимо точки, які не входять в ОДЗ.



Отже, $x = \frac{\pi}{4} + \frac{\pi k}{2}$, $k \in \mathbf{Z}$ — корені рівняння.

Відповідь. $\frac{\pi}{4} + \frac{\pi k}{2}$, $k \in \mathbf{Z}$.

Розв'язування рівнянь на застосування обмеженості функцій $y = \sin x$ і $y = \cos x$

Наприклад, розв'язати рівняння $\cos 3x + \cos \frac{5x}{2} = 2$. Маємо: $|\cos 3x| \leq 1$, $|\cos \frac{5x}{2}| \leq 1$, тоді

$$\cos 3x + \cos \frac{5x}{2} \leq 2, \text{ до того ж рівність виконується лише тоді, коли: } \begin{cases} \cos 3x = 1; \\ \cos \frac{5x}{2} = 1; \end{cases} \begin{cases} x = \frac{2\pi n}{3}, n \in \mathbf{Z}; \\ x = \frac{4\pi k}{5}, k \in \mathbf{Z}. \end{cases} \text{ При-}$$

рівнюючи праві частини цих рівностей, одержуємо: $\frac{2\pi n}{3} = \frac{4\pi k}{5}$, звідки $10\pi n = 12\pi k$, $n \in \mathbf{Z}$, $k \in \mathbf{Z}$;

$n = \frac{6k}{5}$, $n \in \mathbf{Z}$, $k \in \mathbf{Z}$. Оскільки n і k — цілі числа, то в праву частину замість k можна підставити лише цілі числа кратні 5. Тому останнє рівняння має розв'язки лише у цілих числах виду $k = 5l$, $l \in \mathbf{Z}$. Підставляючи значення $k = 5l$ в розв'язок системи $x = \frac{4\pi k}{5}$, одержуємо, що $x = 4\pi l$, $l \in \mathbf{Z}$.

Відповідь. $4\pi l$, $l \in \mathbf{Z}$.

Тригонометричні рівняння з параметрами

Розв'язати рівняння $a \sin^2 x + 2(a+2) \sin x + 8 = 0$.

Задане рівняння є або лінійним відносно $\sin x$, якщо $a = 0$, або квадратним відносно $\sin x$, якщо $a \neq 0$.

1. $a = 0$: $4\sin x + 8 = 0$; $\sin x = -2$; $x \in \emptyset$;

2. $a \neq 0$. Уведемо заміну $\sin x = t$ й одержимо: $at^2 + 2(a+2)t + 8 = 0$; $\frac{D}{4} = (a+2)^2 - 8a = (a-2)^2$;

$$t_{1,2} = \frac{-(a+2) \pm (a-2)}{a}; \begin{cases} t_1 = -2; \\ t_2 = -\frac{4}{a}. \end{cases} \text{ Повернемося до заміни:}$$

1) $\sin x = -2$; $x \in \emptyset$;

2) $\sin x = -\frac{4}{a}$. Якщо $a \in (-\infty; -4] \cup [4; +\infty)$, то $x = (-1)^k \arcsin\left(-\frac{4}{a}\right) + \pi k, k \in \mathbb{Z}$; якщо $a \in (-4; 4)$, то $x \in \emptyset$.

Відповідь. Якщо $a \in (-\infty; -4] \cup [4; +\infty)$, то $x = (-1)^k \arcsin\left(-\frac{4}{a}\right) + \pi k, k \in \mathbb{Z}$; якщо $a \in (-4; 4)$, то $x \in \emptyset$.

Приклад 1. Розв'язати рівняння $\operatorname{tg}\left(5x + \frac{\pi}{4}\right) = \sqrt{3}$.

А	Б	В	Г	Д
$x = \pi k,$ $k \in \mathbb{Z}$	$x = \frac{\pi}{60} + \frac{\pi k}{5},$ $k \in \mathbb{Z}$	$x = -\frac{\pi}{60} + \pi k,$ $k \in \mathbb{Z}$	$x = \frac{\pi}{12} + \pi k,$ $k \in \mathbb{Z}$	$x = \frac{\pi}{4} + 3\pi k,$ $k \in \mathbb{Z}$

■ $\operatorname{tg}\left(5x + \frac{\pi}{4}\right) = \sqrt{3}$; $5x + \frac{\pi}{4} = \operatorname{arctg}\sqrt{3} + \pi k, k \in \mathbb{Z}$; $5x + \frac{\pi}{4} = \frac{\pi}{3} + \pi k, k \in \mathbb{Z}$; $5x = \frac{\pi}{12} + \pi k, k \in \mathbb{Z}$;

$x = \frac{\pi}{60} + \frac{\pi k}{5}, k \in \mathbb{Z}$.

Відповідь. Б. ■

Приклад 2. Розв'язати рівняння $\cos 2x = -\frac{1}{2}$.

А	Б	В	Г	Д
$(-1)^n \frac{\pi}{6} + \pi n, n \in \mathbb{Z}$	$\pm \frac{\pi}{3} + 2\pi n, n \in \mathbb{Z}$	$-\frac{\pi}{3} + \pi n, n \in \mathbb{Z}$	$\pm \frac{\pi}{3} + \pi n, n \in \mathbb{Z}$	$\pm \frac{\pi}{6} + \pi n, n \in \mathbb{Z}$

■ $\cos 2x = -\frac{1}{2}$; $2x = \pm \frac{2\pi}{3} + 2\pi n, n \in \mathbb{Z}$; $x = \pm \frac{\pi}{3} + \pi n, n \in \mathbb{Z}$.

Відповідь. Г. ■

Приклад 3. Знайти найбільший від'ємний корінь рівняння $\cos 3x = 1$.

А	Б	В	Г	Д
$-\frac{\pi}{3}$	$-\pi$	$-\frac{2\pi}{3}$	$\frac{k\pi}{3}, k \in \mathbb{Z}$	$-\frac{\pi}{2}$

■ $\cos 3x = 1$; $3x = 2k\pi, k \in \mathbb{Z}$, $x = \frac{2k\pi}{3}, k \in \mathbb{Z}$. $\frac{2k\pi}{3} < 0$; $k\pi < 0$; $k < 0$. Найбільший від'ємний корінь

одержимо, якщо $k = -1$. Отже, $x = -\frac{2\pi}{3}$.

Відповідь. В. ■

Приклад 4. Розв'язати рівняння $\cos 3x + \sin 2x - \cos x = 0$.

А	Б	В	Г	Д
$\frac{\pi k}{2}; (-1)^n \frac{\pi}{6} + \pi n,$ $k, n \in \mathbf{Z}$	$(-1)^n \frac{\pi}{6} + \pi n,$ $n \in \mathbf{Z}$	$\frac{\pi k}{2}, k \in \mathbf{Z}$	$\frac{\pi k}{2}; \frac{\pi}{6} + \pi n,$ $k, n \in \mathbf{Z}$	$\pi k; (-1)^n \frac{\pi}{6} + \pi n,$ $k, n \in \mathbf{Z}$

■ $\cos 3x + \sin 2x - \cos x = 0$. Розкладемо ліву частину рівняння на множники:

$$-2\sin 2x \cdot \sin x + \sin 2x = 0; \sin 2x \cdot (1 - 2\sin x) = 0;$$

$$\sin 2x = 0;$$

$$2x = \pi k, k \in \mathbf{Z};$$

$$x = \frac{\pi k}{2}, k \in \mathbf{Z}$$

$$\text{або } 1 - 2\sin x = 0;$$

$$\sin x = \frac{1}{2};$$

$$x = (-1)^n \frac{\pi}{6} + \pi n, k \in \mathbf{Z}.$$

Відповідь. А. ■

Приклад 5. Розв'язати рівняння $2\sin^2 x + \cos x - 1 = 0$.

А	Б	В	Г	Д
$2\pi k, \frac{2\pi}{3} + 2\pi n,$ $k, n \in \mathbf{Z}$	$2\pi k, k \in \mathbf{Z}$	$\pm \frac{2\pi}{3} + 2\pi n,$ $n \in \mathbf{Z}$	$2\pi k, \pm \frac{2\pi}{3} + 2\pi n,$ $k, n \in \mathbf{Z}$	$2\pi k, -\frac{2\pi}{3} + 2\pi n,$ $k, n \in \mathbf{Z}$

■ $2\sin^2 x + \cos x - 1 = 0; 2(1 - \cos^2 x) + \cos x - 1 = 0; -2\cos^2 x + \cos x + 1 = 0; 2\cos^2 x - \cos x - 1 = 0$.

$$\cos x = 1;$$

$$x = 2\pi k, k \in \mathbf{Z}$$

$$\text{або } \cos x = -\frac{1}{2};$$

$$x = \pm \frac{2\pi}{3} + 2\pi n, n \in \mathbf{Z}.$$

Відповідь. Г. ■

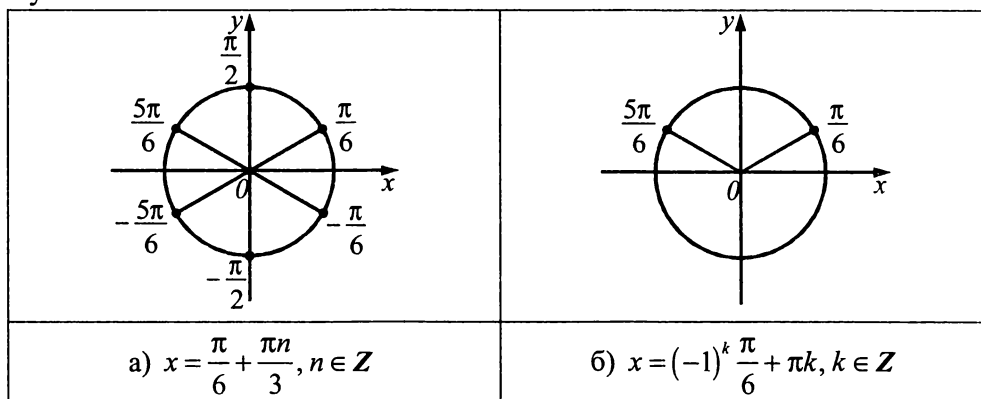
Приклад 6. Розв'язати рівняння $\cos 3x + \sin 2x - \sin 4x = 0$. У відповідь записати найменший додатний корінь (у градусах).

$$\cos 3x + \sin 2x - \sin 4x = 0 \Leftrightarrow \cos 3x - 2\sin x \cos 3x = 0 \Leftrightarrow \cos 3x(1 - 2\sin x) = 0 \Leftrightarrow \begin{cases} \cos 3x = 0; \\ 1 - 2\sin x = 0; \end{cases} \Leftrightarrow$$

$$\Leftrightarrow \begin{cases} x = \frac{\pi}{6} + \frac{\pi n}{3}, n \in \mathbf{Z}; \\ x = (-1)^k \frac{\pi}{6} + \pi k, k \in \mathbf{Z}. \end{cases}$$

Зобразимо множину розв'язків $x = \frac{\pi}{6} + \frac{\pi n}{3}, n \in \mathbf{Z}$ і $x = (-1)^k \frac{\pi}{6} + \pi k, k \in \mathbf{Z}$

на одиничному колі.



Множина розв'язків $x = (-1)^k \frac{\pi}{6} + \pi k, k \in \mathbf{Z}$ є підмножиною множини $x = \frac{\pi}{6} + \frac{\pi n}{3}, n \in \mathbf{Z}$. Тому відповіддю є $x = \frac{\pi}{6} + \frac{\pi n}{3}, n \in \mathbf{Z}$.

Отже, $x = (-1)^k \frac{\pi}{6} + \pi k, k \in \mathbf{Z}$.

Найменший додатний корінь дорівнює $\frac{\pi}{6} = 30^\circ$.

Відповідь. 30° . ■

Приклад 7. Розв'язати рівняння $\cos^2 x + \cos^2 2x + \cos^2 3x + \cos^2 4x = 2$. У відповідь записати кількість коренів, які належать проміжку $\left[0; \frac{\pi}{3}\right]$.

■ Перетворимо вихідне рівняння: $\cos^2 x + \cos^2 2x + \cos^2 3x + \cos^2 4x = 2 \Leftrightarrow \frac{1 + \cos 2x}{2} + \frac{1 + \cos 4x}{2} + \frac{1 + \cos 6x}{2} + \frac{1 + \cos 8x}{2} = 2 \Leftrightarrow (\cos 8x + \cos 2x) + (\cos 6x + \cos 4x) = 0; \quad 2\cos 5x \cdot \cos 3x + 2\cos 5x \cdot \cos x = 0 \Leftrightarrow$

$\Leftrightarrow 2\cos 5x(\cos 3x + \cos x) = 0 \Leftrightarrow 4\cos x \cdot \cos 2x \cdot \cos 5x = 0 \Leftrightarrow \begin{cases} x = \frac{\pi}{2} + \pi n, n \in \mathbf{Z}; \\ x = \frac{\pi}{4} + \frac{\pi k}{2}, k \in \mathbf{Z}; \\ x = \frac{\pi}{10} + \frac{\pi m}{5}, m \in \mathbf{Z}. \end{cases}$ Проміжку $\left[0; \frac{\pi}{3}\right]$ нале-

жать три корені: $\frac{\pi}{10}, \frac{3\pi}{10}, \frac{\pi}{4}$.

Відповідь. 3. ■

Приклад 8. За яких значень параметра a рівняння $\sin^4 x + \cos^4 x = a$ має корені? У відповідь записати найменший з них.

■ Маємо: $\sin^4 x + \cos^4 x = \sin^4 x + 2\sin^2 x \cos^2 x + \cos^4 x - 2\sin^2 x \cos^2 x = (\sin^2 x + \cos^2 x)^2 - 2\sin^2 x \cos^2 x = 1 - 2\sin^2 x \cos^2 x = 1 - \frac{1}{2}\sin^2 2x = 1 - \frac{1}{4}(1 - \cos 4x) = \frac{3}{4} + \frac{1}{4}\cos 4x = \frac{1}{4}(\cos 4x + 3)$. Тоді дане рівняння рівносильне такому: $\frac{1}{4}(\cos 4x + 3) = a$, або $\cos 4x = 4a - 3$. Воно має корені, якщо виконується умова $-1 \leq 4a - 3 \leq 1$, звідки $a \in [0,5; 1]$. Найменшим значення є 0,5.

Відповідь. 0,5. ■

Приклад 9. За яких значень параметра a рівняння $\sin 2x + (a + 2)(\sin x - \cos x) = 2a + 1$ має принаймні один корінь? У відповідь записати кількість цілих значень a .

■ Перетворимо рівняння: $\sin 2x + (a + 2)(\sin x - \cos x) = 2a + 1; \quad -(1 - \sin 2x) + (a + 2)(\sin x - \cos x) = 2a; \quad -(\sin^2 x - 2\sin x \cos x + \cos^2 x) + (a + 2)(\sin x - \cos x) = 2a; \quad (\sin x - \cos x)^2 - (a + 2)(\sin x - \cos x) + 2a = 0$. Уведемо заміну: $\sin x - \cos x = t$. Тоді одержимо рівняння: $t^2 - (a + 2)t + 2a = 0; \quad t_1 = 2, \quad t_2 = a$. Повернемося до заміни: $\sin x - \cos x = 2$ або $\sin x - \cos x = a$. Оскільки $\sin x - \cos x = \sqrt{2} \sin\left(x - \frac{\pi}{4}\right)$, то $-\sqrt{2} \leq \sin x - \cos x \leq \sqrt{2}$, звідки слідує, що рівняння $\sin x - \cos x = 2$ коренів не має, а рівняння $\sin x - \cos x = a$ має корені тільки у випадку виконання умови $-\sqrt{2} \leq a \leq \sqrt{2}$. Проміжок $\left[-\sqrt{2}; \sqrt{2}\right]$ містить такі цілі числа: $-1, 0, 1$, а їх кількість дорівнює 3.

Відповідь. 3. ■

Завдання 18.1–18.22 мають по п'ять варіантів відповідей, з яких тільки **ОДНА ПРАВИЛЬНА**. Оберіть правильну, на Вашу думку, відповідь.

18.1. Розв'язати рівняння $2\sin x = -1$.

А	Б	В	Г	Д
$x = (-1)^n \frac{\pi}{12} + \frac{\pi n}{2},$ $n \in Z$	$x = (-1)^{n+1} \frac{\pi}{12} + \frac{\pi n}{2},$ $n \in Z$	$x = -\frac{\pi}{4} + \pi n,$ $n \in Z$	$x = (-1)^{n+1} \frac{\pi}{6} + \frac{\pi n}{2},$ $n \in Z$	$x = (-1)^{n+1} \frac{\pi}{6} + \pi n,$ $n \in Z$

18.2. Розв'язати рівняння $\sin \pi x = 1$.

А	Б	В	Г	Д
$x = \frac{\pi}{2} + 2\pi n,$ $n \in Z$	$x = \frac{\pi^2}{2} + 2\pi^2 n,$ $n \in Z$	$x = \frac{\pi}{2} + \pi n,$ $n \in Z$	$x = \frac{1}{2} + n,$ $n \in Z$	$x = \frac{1}{2} + 2n,$ $n \in Z$

18.3. Розв'язати рівняння $2\cos 2x = -\sqrt{2}$.

А	Б	В	Г	Д
\emptyset	$x = \pm \frac{3\pi}{8} + \pi n,$ $n \in Z$	$x = \pm \frac{\pi}{8} + \pi n,$ $n \in Z$	$x = \pm \frac{3\pi}{4} + 2\pi n,$ $n \in Z$	$x = \pm \frac{\pi}{4} + \pi n,$ $n \in Z$

18.4. Розв'язати рівняння $\sqrt{3} \operatorname{tg}\left(x + \frac{\pi}{6}\right) = 1$.

А	Б	В	Г	Д
$x = \pi n,$ $n \in Z$	$x = \frac{\pi}{6} + \pi n,$ $n \in Z$	$x = -\frac{\pi}{3} + \pi n,$ $n \in Z$	$x = \frac{\pi}{6} + 2\pi n,$ $n \in Z$	$x = \frac{\pi}{4} + \pi n,$ $n \in Z$

18.5. Розв'язати рівняння $(\operatorname{ctg} x)^{100} = 1$.

А	Б	В	Г	Д
$x = -\frac{\pi}{4} + \pi n,$ $n \in Z$	$x = \frac{\pi}{4} + \pi n,$ $n \in Z$	$x = \pm \frac{\pi}{4} + \pi n,$ $n \in Z$	0	$x = \operatorname{arctg} 100 + \pi n,$ $n \in Z$

18.6. Указати рівняння, яке має хоча б один корінь.

А	Б	В	Г	Д
$\cos x = \frac{\pi}{3}$	$\arccos x = -\frac{\pi}{3}$	$\arcsin x = \pi$	$\operatorname{arctg} x = 2$	$\operatorname{arctg} x = 3$

18.7. Указати рівняння, яке має тільки один корінь.

А	Б	В	Г	Д
$\sin x = -1$	$\cos x = -2$	$\operatorname{arctg} x = 1$	$\operatorname{tg} x = 1$	$\frac{\cos x - 1}{\sin x} = 0$

18.8. Розв'язати рівняння $\sin^2 x - \sin x = 0$.

А	Б	В	Г	Д
$x = \pi n,$ $n \in Z$	$x = \pi n, x = \frac{\pi}{2} + \pi n,$ $n \in Z$	$x = \frac{\pi}{2} + 2\pi n,$ $n \in Z$	$x = \pi n, x = -\frac{\pi}{2} + \pi n,$ $n \in Z$	$x = \pi n, x = \frac{\pi}{2} + 2\pi n,$ $n \in Z$

18.9. Знайти корінь рівняння $\sin 2x - 4\cos x = 0$, який належить проміжку $[2\pi; 3\pi]$.

А	Б	В	Г	Д
$\frac{7\pi}{3}$	$\frac{5\pi}{2}$	$\frac{9\pi}{4}$	$\frac{13\pi}{6}$	$\frac{7\pi}{4}$

18.10. Розв'язати рівняння $\operatorname{tg} x = \operatorname{ctg} x$.

А	Б	В	Г	Д
$x = \frac{\pi}{4} + \pi n,$ $n \in \mathbb{Z}$	$x = -\frac{\pi}{4} + \pi n,$ $n \in \mathbb{Z}$	$x = \pm \frac{\pi}{4} + 2\pi n,$ $n \in \mathbb{Z}$	$x = \frac{\pi}{4} + \frac{\pi n}{2},$ $n \in \mathbb{Z}$	Рівняння коренів немає

18.11. Розв'язати рівняння $\frac{\cos x}{\sin x - 1} = 0$.

А	Б	В	Г	Д
$x = -\frac{\pi}{2} + \pi n,$ $n \in \mathbb{Z}$	$x = -\frac{\pi}{2} + 2\pi n,$ $n \in \mathbb{Z}$	$x = \frac{\pi}{2} + 2\pi n,$ $n \in \mathbb{Z}$	$x = \pi n,$ $n \in \mathbb{Z}$	$x = \frac{\pi}{2} + \pi n,$ $n \in \mathbb{Z}$

18.12. Розв'язати рівняння $\sqrt{3} \sin x - \cos x = 0$.

А	Б	В	Г	Д
$x = \frac{\pi}{6} + \pi n,$ $n \in \mathbb{Z}$	$x = \frac{\pi}{3} + 2\pi n,$ $n \in \mathbb{Z}$	$x = \frac{\pi}{3} + \pi n,$ $n \in \mathbb{Z}$	$x = -\frac{\pi}{6} + \pi n,$ $n \in \mathbb{Z}$	$x = \frac{\pi}{4} + \pi n,$ $n \in \mathbb{Z}$

18.13. Розв'язати рівняння $\cos^2 x + 5\cos x - 6 = 0$.

А	Б	В	Г	Д
$x = \pi + 2\pi n,$ $n \in \mathbb{Z}$	$x = \pm \arccos 1 + \pi n,$ $n \in \mathbb{Z}$	$x = 2\pi n, n \in \mathbb{Z},$ $x = \pm(\pi - \arccos 6) +$ $+2\pi k, k \in \mathbb{Z}$	$x = \pi n,$ $n \in \mathbb{Z}$	$x = 2\pi n,$ $n \in \mathbb{Z}$

18.14. Розв'язати рівняння $\sin x + \cos x = -\sqrt{2}$.

А	Б	В	Г	Д
$x = \pm \frac{\pi}{4} + 2\pi n,$ $n \in \mathbb{Z}$	$x = \pi + 2\pi n,$ $n \in \mathbb{Z}$	$x = -\frac{3\pi}{4} + 2\pi n,$ $n \in \mathbb{Z}$	$x = \frac{5\pi}{4} + \pi n,$ $n \in \mathbb{Z}$	$x = \arctg(-\sqrt{2}) + \pi n,$ $n \in \mathbb{Z}$

18.15. Розв'язати рівняння $\sin x^2 = 0$.

А	Б	В	Г	Д
$\sqrt{\pi n}, n \in \mathbb{N}$	0	$\{0\} \cup \{\sqrt{2\pi n}, n \in \mathbb{N}\}$	$-\sqrt{2\pi n}, n \in \mathbb{N}$	$\{0\} \cup \{\pm\sqrt{\pi n}, n \in \mathbb{N}\}$

18.16. Розв'язати рівняння $\operatorname{tg} \sqrt{x} = -1$.

А	Б	В	Г	Д
$x = \left(\frac{\pi}{4} + \pi n\right)^2,$ $n \in \mathbb{N}$	$x = -\frac{\pi^2}{16} + \pi^2 n^2,$ $n \in \mathbb{N}$	$x = \left(-\frac{\pi}{4} + \pi n\right)^2,$ $n \in \mathbb{N}$	$x = \frac{\pi^2}{16} + \pi^2 n^2,$ $n \in \mathbb{N}$	$x = -\frac{\pi}{4} + \pi n,$ $n \in \mathbb{N}$

18.17. У якому вигляді можна подати розв'язок рівняння $\cos(\pi x) = x^2 - 4x + 5$?

А	Б	В	Г	Д
$\log_{\pi} \pi^2$	$\log_{\pi} \pi$	$\log_{\pi} \frac{\pi}{2}$	$\log_{\frac{1}{\pi}} \pi$	$\log_{\pi} \pi^3$

18.18. Розв'язати рівняння $\cos(\cos x) = 1$.

А	Б	В	Г	Д
\emptyset	$x = \frac{\pi}{2} + \pi n,$ $n \in Z$	$x = \pm \arccos(2\pi n) +$ $+2\pi n, n \in Z$	$x = 2\pi n,$ $n \in Z$	$x = \pm \pi + 2\pi n,$ $n \in Z$

18.19. Розв'язати рівняння $\sin x + \sin|x| = 0$.

А	Б	В	Г	Д
$\pi n, n \in Z$	0	$(-\infty; 0]$	$(-\infty; 0] \cup \{\pi n, n \in N\}$	$(-\infty; 0] \cup \left\{ \frac{\pi}{2} + \pi n, n \in Z \right\}$

18.20. Розв'язати рівняння $|\cos x| = \cos x + 2\sin x$.

А	Б	В	Г	Д
$x = 2\pi n,$ $n \in Z$	$x = \pi n,$ $n \in Z$	$x = \pi n, x = -\frac{\pi}{4} +$ $+2\pi k, n, k \in Z$	$x = \pi n, x = -\frac{\pi}{4} +$ $+ \pi k, n, k \in Z$	$x = 2\pi n, x = \frac{3\pi}{4} +$ $+2\pi k, n, k \in Z$

18.21. За якого найменшого значення параметра a рівняння $2\cos 4x = a - 5$ має корені?

А	Б	В	Г	Д
-3	0	3	1	-1

18.22. Знайти всі значення a , за яких рівняння $(a+2)\sin x = a^2 - 4$ має корені.

А	Б	В	Г	Д
$a \in (1; 3)$	$a \in R$	$a \neq 2$	$a \in \{-2\} \cup [1; 3]$	\emptyset

Завдання 18.23–18.34 передбачають установлення відповідності. До кожного рядка, позначеного ЦИФРОЮ, доберіть один відповідник, позначений БУКВОЮ, і поставте позначки на перетині відповідних рядків (цифри) і колонок (букви).

18.23. Установити відповідність між заданими рівняннями (1–4) та множинами їх розв'язків на проміжку $[0; 2\pi]$ (А–Д).

1 $\sin 2x = 0$	А $\{0; 2\pi\}$
2 $2\cos x = 2$	Б $\left\{0; \frac{\pi}{2}; \pi; \frac{3\pi}{2}; 2\pi\right\}$
3 $\cos 2x = 0$	В $\left\{0; \frac{\pi}{4}; \frac{\pi}{2}; \frac{3\pi}{4}; \pi\right\}$
4 $\operatorname{tg} \frac{1}{2} x = 1$	Г $\left\{\frac{\pi}{2}\right\}$
	Д $\left\{\frac{\pi}{4}; \frac{3\pi}{4}; \frac{5\pi}{4}; \frac{7\pi}{4}\right\}$

18.24. Установити відповідність між рівняннями (1–4) та множинами їх розв’язків (А–Д).

1 $\sin\left(\frac{\pi}{2} - x\right) = a, |a| \leq 1$

А $\pm \arccos a + 2n\pi, n \in \mathbb{Z}$

Б $\arctg a + n\pi, n \in \mathbb{Z}$

2 $\sin x \cos x = \frac{a}{2}$

В $\operatorname{arccotg} a + n\pi, n \in \mathbb{Z}$

3 $\sin x = a \cos x$

Г $(-1)^n \arcsin a + n\pi, n \in \mathbb{Z}$

4 $\operatorname{tg}\left(\frac{3\pi}{2} - x\right) = a$

Д $(-1)^n \cdot \frac{1}{2} \arcsin a + \frac{n\pi}{2}, n \in \mathbb{Z}$

18.25. Установити відповідність між рівняннями (1–4) та їх розв’язками (А–Д).

1 $2\sin x = 1$

А $x = (-1)^k \frac{\pi}{12} + \pi n, n \in \mathbb{Z}$

2 $\sin 2x = 1$

Б $x = (-1)^k \frac{\pi}{6} + \pi n, n \in \mathbb{Z}$

3 $\sin \frac{x}{2} = 1$

В $x = (-1)^k \frac{\pi}{3} + 2\pi n, n \in \mathbb{Z}$

4 $2\sin \frac{x}{2} = 1$

Г $x = \frac{\pi}{4} + \pi n, n \in \mathbb{Z}$

Д $x = (4n+1)\pi, n \in \mathbb{Z}$

18.26. Установити відповідність між рівняннями (1–4) та кількістю їх коренів на відрізку $[0; 2\pi]$ (А–Д).

1 $\sin 2x = 0$

А жодного

2 $\sin 2x = -\frac{1}{2}$

Б один

3 $\sin \frac{x}{8} = 1$

В два

4 $\sin \frac{x}{4} = \frac{1}{2}$

Г чотири

Д п’ять

18.27. Установити відповідність між рівняннями (1–4) та кількістю їх коренів на проміжку $(0; \pi)$ (А–Д).

1 $\operatorname{ctg} 3x = 4$

А чотири

2 $\operatorname{ctg} 2x = 2$

Б три

3 $\operatorname{ctg} \frac{x}{4} = 0$

В два

4 $|\operatorname{ctg} 2x| = 1$

Г один

Д жодного

18.28. Установити відповідність між рівняннями (1–4) та їх коренями (А–Д).

1 $\sin^2 x - 4\sin x + 3 = 0$

А $x = 2\pi n, n \in \mathbb{Z}$

2 $\sin^2 x - 3\sin x - 4 = 0$

Б $x = \pi(2n+1), n \in \mathbb{Z}$

3 $\cos^2 x - 5\cos x + 4 = 0$

В $x = -\frac{\pi}{2} + 2\pi n, n \in \mathbb{Z}$

4 $\cos^2 x - 4\cos x - 5 = 0$

Г $x = \frac{\pi}{2} + \pi n, n \in \mathbb{Z}$

Д $x = \frac{\pi}{2} + 2\pi n, n \in \mathbb{Z}$

18.29. Установити відповідність між рівняннями (1–4) та рівносильними їм рівняннями (А–Д).

1 $\cos 3x - \cos x = 0$

А $\sin 2x \cos 3x = 0$

2 $\cos 3x + \cos x = 0$

Б $\sin 3x \cos 2x = 0$

3 $\sin 3x - \sin x = 0$

В $\sin x \cos x = 0$

4 $\sin 5x + \sin x = 0$

Г $\sin x \cos 2x = 0$

Д $\cos x \cos 2x = 0$

18.30. Установити відповідність між рівняннями (1–4) та їх коренями (А–Д).

1 $\sin \frac{x}{2} - \sqrt{3} \cos \frac{x}{2} = 0$

А $x = \frac{\pi}{6} + \pi n, n \in \mathbb{Z}$

2 $\sin \frac{x}{2} - \cos \frac{x}{2} = 0$

Б $x = -\frac{\pi}{6} + \pi n, n \in \mathbb{Z}$

3 $\sqrt{3} \sin x - \cos x = 0$

В $x = \frac{\pi}{2} + 2\pi n, n \in \mathbb{Z}$

4 $\sqrt{3} \sin \frac{x}{2} + \cos \frac{x}{2} = 0$

Г $x = -\frac{\pi}{3} + 2\pi n, n \in \mathbb{Z}$

Д $x = \frac{2\pi}{3} + 2\pi n, n \in \mathbb{Z}$

18.31. Установити відповідність між рівняннями (1–4) та рівносильними їм рівняннями (А–Д).

1 $\frac{\cos x}{\sin x - 2} = 0$

А $\sin x = -1$

Б $\sin x = 1$

2 $\frac{\cos x}{\sin x - 1} = 0$

В $\cos x = 2$

Г $\cos x = 0$

3 $\frac{\sin x}{1 - \cos x} = 0$

Д $\cos x = -1$

4 $\frac{\sin x - 1}{\cos x} = 0$

18.32. Установити відповідність між рівняннями (1–4) та їх коренями (А–Д).

1 $\sin x^2 = 1$

А $x = \sqrt{\frac{5\pi}{2} + 2\pi(n-1)}, n \in \mathbb{N}$

2 $\sin \sqrt{x} = 1$

Б $x = \pm \frac{\pi}{2} + 2\pi n$, де n — ціле невід'ємне число

3 $\sin^2 x = 1$

В $x = \frac{\pi}{2} + \pi k, k \in \mathbb{Z}$

4 $\sin|x| = 1$

Г $x = \pm \sqrt{\frac{\pi}{2} + 2\pi n}$, де n — ціле невід'ємне число

Д $x = \left(\frac{\pi}{2} + 2\pi n\right)^2$, де n — ціле невід'ємне число

18.33. Установити відповідність між рівняннями (1–4) та їх коренями (А–Д).

1 $|\sin x| = -\sin x$

2 $|\sin x| = \sin x$

3 $|\cos x| = -\cos x$

4 $|\cos x| = \cos x$

А $x \in \left[\frac{\pi}{2} + 2\pi k; \frac{3\pi}{2} + 2\pi k \right], k \in \mathbb{Z}$

Б $x \in \left[-\frac{\pi}{2} + 2\pi k; \frac{\pi}{2} + 2\pi k \right], k \in \mathbb{Z}$

В $x \in [\pi(2k+1); 2\pi(k+2)], k \in \mathbb{Z}$

Г $x \in \left[\frac{\pi}{2} + 4\pi k; \frac{3\pi}{2} + 4\pi k \right], k \in \mathbb{Z}$

Д $x \in [2\pi k; \pi(2k+1)], k \in \mathbb{Z}$

18.34. Установити відповідність між рівняннями (1–4) та їх коренями (А–Д).

1 $\sin(x - |x|) = 0$

2 $\sin(x + |x|) = 0$

3 $\cos(x + |x|) = 1$

4 $\cos(x - |x|) = 1$

А $\{-\pi n, n \in \mathbb{N}\} \cup [0; +\infty)$

Б $\{-2\pi n, n \in \mathbb{N}\} \cup [0; +\infty)$

В $(-\infty; 0] \cup \left\{ \frac{\pi n}{2}, n \in \mathbb{N} \right\}$

Г $(-\infty; 0] \cup \{\pi n, n \in \mathbb{N}\}$

Д $\left\{ -\frac{\pi n}{2}, n \in \mathbb{N} \right\} \cup [0; +\infty)$

Розв'яжіть завдання 18.35–18.52. Відповідь запишіть десятковим дробом.

18.35. Розв'язати рівняння $\sin(\pi \sin x) = -1$. У відповідь записати кількість коренів на проміжку $[0; \pi]$.

18.36. Розв'язати рівняння $\cos^2\left(\frac{2\pi}{3}\cos x - \frac{4\pi}{3}\right) = 1$. У відповідь записати найменший додатний корінь, округлений з точністю до 0,1.

18.37. Знайти кількість коренів рівняння $\sin 2x \cdot \operatorname{tg} x + 1 = 3\sin x$ на проміжку $(0; \pi)$.

18.38. Розв'язати рівняння $3\sin x - 2\cos^2 x = -3$. У відповідь записати кількість коренів на проміжку $[0; \pi]$.

18.39. Розв'язати рівняння $3\sin^2 x - 4\sin x \cos x + \cos^2 x = 0$. У відповідь записати кількість коренів на проміжку $[0; \pi]$.

18.40. Розв'язати рівняння $\sqrt{1 - \sin x} = \cos x$. У відповідь записати значення $\frac{x_0}{\pi}$, де x_0 — найменший додатний корінь рівняння.

18.41. Розв'язати рівняння $\cos x - \cos 3x = \sin 2x$. У відповідь записати кількість коренів на проміжку $[0; \pi]$.

18.42. Розв'язати рівняння $\cos x = \sin 3x$. У відповідь записати значення $\frac{x_0}{\pi}$, де x_0 — найменший додатний корінь рівняння.

- 18.43. Розв'язати рівняння $\cos x - \sqrt{3} \sin x = 2$. У відповідь записати значення $\frac{3x_0}{\pi}$, де x_0 — найменший додатний корінь рівняння.
- 18.44. Розв'язати рівняння $\sin^2 2x - \sin^2 x = \frac{1}{2}$. У відповідь записати кількість коренів на проміжку $[0; 2\pi]$.
- 18.45. Розв'язати рівняння $\cos^2 x + \cos^2 2x + \cos^2 3x + \cos^2 4x = 2$. У відповідь записати кількість коренів на проміжку $[0; 2\pi]$.
- 18.46. Розв'язати рівняння $(\sin x + \cos x)^2 - 3(\sin x + \cos x) + 2 = 0$. У відповідь записати кількість коренів на проміжку $[0; 2\pi]$.
- 18.47. Нехай x_0 — найменший додатний корінь рівняння $\cos^2 x - 5 \sin x \cos x + 2 = 0$. Знайти $\operatorname{tg} x_0$.
- 18.48. За яких значень параметра a рівняння $\sin^4 x + \cos^4 x = a$ має розв'язки? У відповідь записати суму найбільшого та найменшого значень a .
- 18.49. Розв'язати рівняння $\sin^4 2x + \cos^4 2x = \cos^2 4x + \frac{1}{4}$. У відповідь записати значення $\frac{4x_0}{\pi}$, де x_0 — найменший додатний корінь рівняння.
- 18.50. Розв'язати рівняння $9(\operatorname{tg}^4 x + \operatorname{ctg}^4 x) = 15(\operatorname{tg} x + \operatorname{ctg} x)^2 + 2$. У відповідь записати кількість коренів на проміжку $[0; 2\pi]$.
- 18.51. Розв'язати рівняння $\arccos(\sin x) = \frac{x}{2}$. У відповідь записати значення $\frac{S}{\pi}$, де S — сума всіх коренів рівняння.
- 18.52. Розв'язати рівняння $\sin^4 x + \cos^4 x + \sin 2x = a$. У відповідь записати найбільше значення a , за якого рівняння має корені.

Тема 19. Тригонометричні нерівності

Нерівності, які містять змінну під знаком тригонометричної функції, називають *тригонометричними*. Наприклад, $\cos x \leq \frac{1}{3}$; $5\sin^2 x + 3\cos x > 6$ тощо. Розв'язування тригонометричних нерівностей зводять до розв'язування *найпростіших тригонометричних нерівностей*.

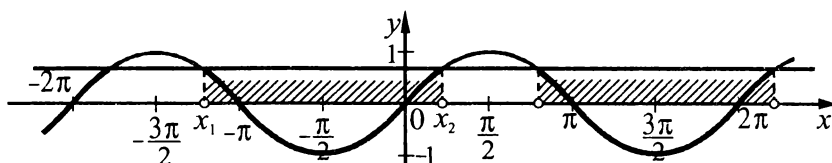
Найпростіші тригонометричні нерівності

Найпростіші тригонометричні нерівності — це нерівності виду $\sin x \diamond a$, $\cos x \diamond a$, $\operatorname{tg} x \diamond a$, $\operatorname{ctg} x \diamond a$. Розв'язувати найпростіші тригонометричні нерівності можна графічно або за допомогою одиничного кола.

За означенням, синусом кута α є ордината точки $P_\alpha(x; y)$ одиничного кола, а косинусом — абсциса точки $P_\alpha(x; y)$ одиничного кола. Цей факт використовується при розв'язуванні тригонометричних нерівностей виду $\sin x \diamond a$, $\cos x \diamond a$ за допомогою одиничного кола.

Наприклад: 1. Розв'язати нерівність $\sin x < \frac{\sqrt{2}}{2}$.

Оскільки $\left| \frac{\sqrt{2}}{2} \right| \leq 1$, то розв'язок існує. Побудуємо в одній системі координат графіки функцій $y = \sin x$ і $y = \frac{\sqrt{2}}{2}$ та виділимо проміжки, на яких графік функцій $y = \sin x$ розташований нижче від графіка прямої $y = \frac{\sqrt{2}}{2}$.

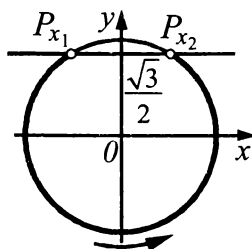


Знайдемо абсциси точок x_1 і x_2 ($x_1 < x_2$) — перетину графіків зазначених функцій.
 $x_1 = -\pi - \arcsin \frac{\sqrt{2}}{2} = -\pi - \frac{\pi}{4} = -\frac{5\pi}{4}$; $x_2 = \arcsin \frac{\sqrt{2}}{2} = \frac{\pi}{4}$. Запишемо відповідь, врахувавши період функції $y = \sin x$.

Відповідь. $\left(-\frac{5\pi}{4} + 2\pi k; \frac{\pi}{4} + 2\pi k \right)$, $k \in \mathbb{Z}$;

2. Розв'язати нерівність $\sin x < \frac{\sqrt{3}}{2}$.

Побудуємо одиничне коло, пряму $y = \frac{\sqrt{3}}{2}$ і позначимо точки P_{x_1} і P_{x_2} перетину одиничного кола й зазначеної прямої та виділимо множину точок, ординати яких менші за $\frac{\sqrt{3}}{2}$.



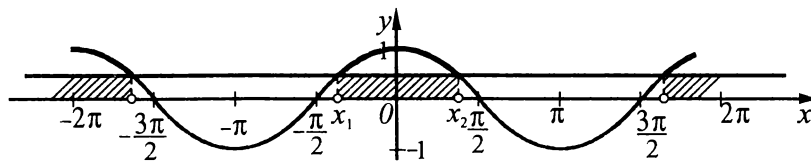
Знайдемо значення x_1 і x_2 , здійснюючи обхід дуги проти годинникової стрілки: $x_1 < x_2$,
 $x_1 = \pi - \arcsin \frac{\sqrt{3}}{2} = \pi - \frac{\pi}{3} = \frac{2\pi}{3}$; $x_2 = \arcsin \frac{\sqrt{3}}{2} + 2\pi = \frac{\pi}{3} + 2\pi$.

Відповідь. $\left(\frac{2\pi}{3} + 2\pi k; \frac{\pi}{3} + 2\pi + 2\pi k \right)$, $k \in \mathbb{Z}$.

Розглянемо розв'язування тригонометричних нерівностей, які містять функцію $y = \cos x$.

Наприклад: 1. Розв'язати нерівність $\cos x > \frac{1}{2}$.

Побудуємо в одній системі координат графіки функцій $y = \cos x$ і $y = \frac{1}{2}$ та виділимо проміжки, на яких графік функцій $y = \cos x$ розташований вище від графіка прямої $y = \frac{1}{2}$.

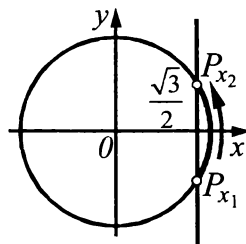


Знайдемо абсциси точок x_1 і x_2 ($x_1 < x_2$) — перетину графіків зазначених функцій, які є кінцями одного з проміжків, на якому виконується задана нерівність. $x_1 = -\arccos \frac{1}{2} = -\frac{\pi}{3}$; $x_2 = \arccos \frac{1}{2} = \frac{\pi}{3}$.
 Запишемо відповідь, врахувавши період функції $y = \cos x$.

Відповідь. $\left(-\frac{\pi}{3} + 2\pi k; \frac{\pi}{3} + 2\pi k \right)$, $k \in \mathbb{Z}$;

2. Розв'язати нерівність $\cos x > \frac{\sqrt{3}}{2}$.

Побудуємо одиничне коло і пряму $y = \frac{\sqrt{3}}{2}$, позначимо точки P_{x_1} і P_{x_2} перетину одиничного кола й зазначеної прямої та виділимо множину точок, абсциси яких більші за $\frac{\sqrt{3}}{2}$.



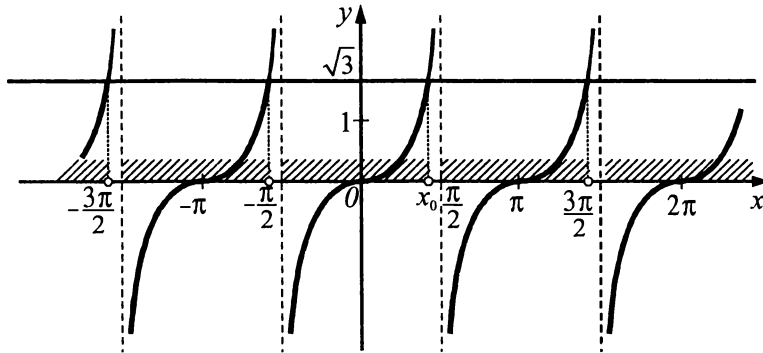
Знайдемо значення x_1 і x_2 , здійснюючи обхід дуги проти годинникової стрілки: $x_1 < x_2$,
 $x_1 = -\arccos \frac{\sqrt{3}}{2} = -\frac{\pi}{6}$; $x_2 = \arccos \frac{\sqrt{3}}{2} = \frac{\pi}{6}$.

Відповідь. $\left(-\frac{\pi}{6} + 2\pi k; \frac{\pi}{6} + 2\pi k \right)$, $k \in \mathbb{Z}$.

Розглянемо розв'язування тригонометричних нерівностей, які містять функцію $y = \operatorname{tg} x$.

Наприклад: 1. Розв'язати нерівність $\operatorname{tg} x < \sqrt{3}$.

Побудуємо в одній системі координат графіки функцій $y = \operatorname{tg} x$ і $y = \sqrt{3}$ та виділимо проміжки, на яких графік функцій $y = \operatorname{tg} x$ розташований нижче від графіка прямої $y = \sqrt{3}$.



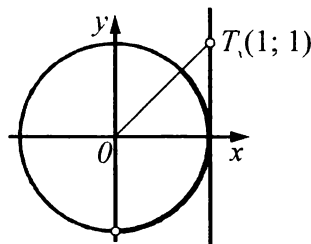
Знайдемо абсцису точки x_0 — перетину графіків зазначених функцій, яка є кінцем одного з проміжків, на якому виконується задана нерівність $x_0 = \frac{\pi}{3}$. Іншим кінцем цього проміжка є точка $-\frac{\pi}{2}$, у якій функція $y = \operatorname{tg} x$ невизначена.

Одним із проміжків, який є розв'язком нерівності, є $-\frac{\pi}{2} < x < \frac{\pi}{3}$. Запишемо відповідь, врахувавши, що період функції $y = \operatorname{tg} x$ дорівнює π .

Відповідь. $\left(-\frac{\pi}{2} + \pi k; \frac{\pi}{3} + \pi k\right)$, $k \in \mathbb{Z}$;

2. Розв'язати нерівність $\operatorname{tg} x < 1$.

Побудуємо одиничне коло, лінію тангенсів, на якій позначимо точку $T_x(1; 1)$ і виділимо ту частину лінії тангенсів, яка розміщена нижче від точки T_x , та дугу кола, яка відповідає виділеній частині лінії тангенсів. Запишемо значення кутів, які відповідають виділеній дузі.



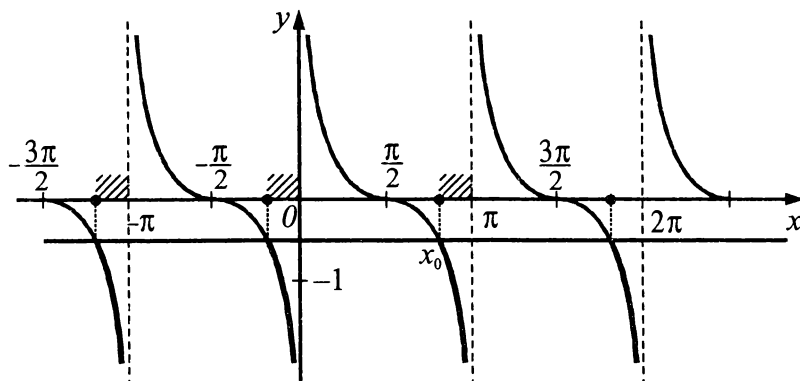
$-\frac{\pi}{2} < x < \arctg 1$; $-\frac{\pi}{2} < x < \frac{\pi}{4}$. Запишемо відповідь, врахувавши, що період функції $y = \operatorname{tg} x$ дорівнює π .

Відповідь. $\left(-\frac{\pi}{2} + \pi k; \frac{\pi}{4} + \pi k\right)$, $k \in \mathbb{Z}$.

Розглянемо розв'язування тригонометричних нерівностей, які містять функцію $y = \operatorname{ctg} x$.

1. Розв'язати нерівність $\operatorname{ctg} x \leq -\frac{\sqrt{3}}{3}$.

Побудуємо в одній системі координат графіки функцій $y = \operatorname{ctg} x$ і $y = -\frac{\sqrt{3}}{3}$ та виділимо проміжки, на яких графік функцій $y = \operatorname{ctg} x$ розташований не вище від графіка прямої $y = -\frac{\sqrt{3}}{3}$.



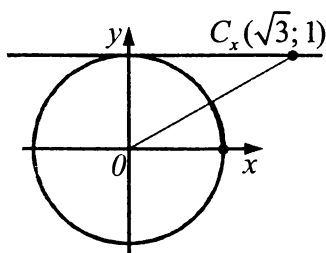
Знайдемо абсцису точки x_0 , яка є кінцем одного з проміжків, на якому виконується задана нерівність $x_0 = \frac{2\pi}{3}$. Іншим кінцем цього проміжка є точка π , у якій функція $y = \operatorname{ctg} x$ невизначена.

Одним із проміжків, який є розв'язком нерівності, є $\frac{2\pi}{3} \leq x < \pi$. Запишемо відповідь, врахувавши, що період функції $y = \operatorname{ctg} x$ дорівнює π .

Відповідь. $\left[\frac{2\pi}{3} + \pi k; \pi + \pi k \right)$, $k \in \mathbf{Z}$.

2. Розв'язати нерівність $\operatorname{ctg} x \geq \sqrt{3}$.

Побудуємо одиничне коло, лінію котангенсів, на якій позначимо точку $C_x(\sqrt{3}; 1)$ і виділимо ту частину лінії котангенсів, яка розміщена праворуч від точки C_x , та дугу кола, яка відповідає виділеній частині лінії котангенсів.



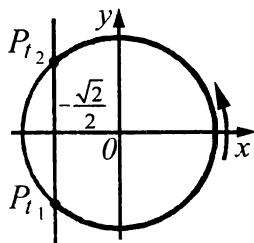
$0 < x < \frac{\pi}{6}$. Запишемо відповідь, врахувавши, що період функції $y = \operatorname{ctg} x$ дорівнює π .

Відповідь. $\left[\pi k; \frac{\pi}{6} + \pi k \right)$, $k \in \mathbf{Z}$.

Тригонометричні нерівності зі складним аргументом

Наприклад, розв'язати нерівність $\cos 2x \geq -\frac{\sqrt{2}}{2}$.

Уведемо нову змінну $t = 2x$ і запишемо дану нерівність у вигляді: $\cos t \geq -\frac{\sqrt{2}}{2}$. Виділимо на одиничному колі множину точок, абсциси яких не менші за $-\frac{\sqrt{2}}{2}$.



Знайдемо значення $t_1 = -\arccos\left(-\frac{\sqrt{2}}{2}\right) = -\frac{3\pi}{4}$ і $t_2 = \arccos\left(-\frac{\sqrt{2}}{2}\right) = \frac{3\pi}{4}$, здійснюючи обхід проти годинникової стрілки: $t_1 < t_2$.

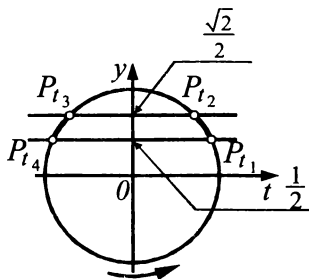
Запишемо умову, за якої точка t належить дузі $P_{t_1} P_{t_2}$: $-\frac{3\pi}{4} + 2\pi k \leq t \leq \frac{3\pi}{4} + 2\pi k$, $k \in \mathbb{Z}$. Повернемося до початкової змінної: $-\frac{3\pi}{4} + 2\pi k \leq 2x \leq \frac{3\pi}{4} + 2\pi k$, $k \in \mathbb{Z}$. Розв'яжемо одержану подвійну нерівність відносно x : $-\frac{3\pi}{8} + \pi k \leq x \leq \frac{3\pi}{8} + \pi k$, $k \in \mathbb{Z}$.

Відповідь. $\left[-\frac{3\pi}{8} + \pi k; \frac{3\pi}{8} + \pi k\right]$, $k \in \mathbb{Z}$.

Подвійні тригонометричні нерівності

Розв'язати нерівність $\frac{1}{2} < \sin \frac{x}{2} < \frac{\sqrt{2}}{2}$.

Уведемо нову змінну $t = \frac{x}{2}$ й одержимо нерівність $\frac{1}{2} < \sin t < \frac{\sqrt{2}}{2}$. На одиничному колі виділимо множину точок, ординати яких більші за $\frac{1}{2}$ і менші за $\frac{\sqrt{2}}{2}$ (дуги $P_{t_1} P_{t_2}$ і $P_{t_3} P_{t_4}$).



Знайдемо значення t_1, t_2, t_3 і t_4 , здійснюючи обхід кола проти годинникової стрілки: $t_1 < t_2, t_3 < t_4$.

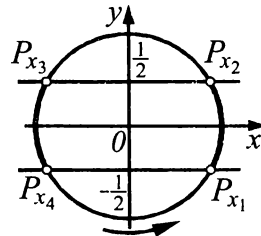
$t_1 = \arcsin \frac{1}{2} = \frac{\pi}{6}$; $t_2 = \arcsin \frac{\sqrt{2}}{2} = \frac{\pi}{4}$; $t_3 = \pi - \arcsin \frac{\sqrt{2}}{2} = \pi - \frac{\pi}{4} = \frac{3\pi}{4}$; $t_4 = \pi - \arcsin \frac{1}{2} = \pi - \frac{\pi}{6} = \frac{5\pi}{6}$.

Тоді маємо: $\frac{\pi}{6} + 2\pi k < t < \frac{\pi}{4} + 2\pi k, k \in \mathbb{Z}$ і $\frac{3\pi}{4} + 2\pi k < t < \frac{5\pi}{6} + 2\pi k, k \in \mathbb{Z}$. Повернувшись до заміни, одержимо: $\frac{\pi}{6} + 2\pi k < \frac{x}{2} < \frac{\pi}{4} + 2\pi k, k \in \mathbb{Z}$ і $\frac{3\pi}{4} + 2\pi k < \frac{x}{2} < \frac{5\pi}{6} + 2\pi k, k \in \mathbb{Z}$. Розв'яжемо одержані нерівності відносно x : $\frac{\pi}{3} + 4\pi k < x < \frac{\pi}{2} + 4\pi k, k \in \mathbb{Z}$ і $\frac{3\pi}{2} + 4\pi k < x < \frac{5\pi}{3} + 4\pi k, k \in \mathbb{Z}$.

Відповідь. $\left(\frac{\pi}{3} + 4\pi k; \frac{\pi}{2} + 4\pi k\right) \cup \left(\frac{3\pi}{2} + 4\pi k; \frac{5\pi}{3} + 4\pi k\right), k \in \mathbb{Z}$.

Нерівності, у яких тригонометрична функція міститься під знаком модуля

Нехай необхідно розв'язати нерівність $|\sin x| < \frac{1}{2}$. Запишемо задану нерівність у вигляді подвійної нерівності: $-\frac{1}{2} < \sin x < \frac{1}{2}$. Для цього виділимо на одиничному колі множини точок, ординати яких більші за $-\frac{1}{2}$ і менші за $\frac{1}{2}$ (дуги P_{x_1}, P_{x_2} і P_{x_3}, P_{x_4}).



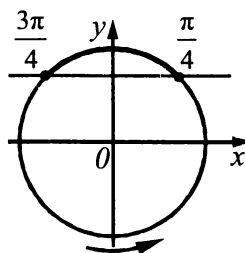
Знайдемо значення x_1, x_2, x_3 і x_4 , виконуючи обхід кола проти годинникової стрілки: $x_1 < x_2, x_3 < x_4$.
 $x_1 = \arcsin\left(-\frac{1}{2}\right) = -\frac{\pi}{6}$; $x_2 = \arcsin \frac{1}{2} = \frac{\pi}{6}$; $x_3 = \pi - \arcsin \frac{1}{2} = \frac{5\pi}{6}$; $x_4 = \pi + \arcsin \frac{1}{2} = \frac{7\pi}{6}$.

Запишемо умови, за яких точка x є розв'язком нерівності: $-\frac{\pi}{6} + 2\pi k < x < \frac{\pi}{6} + 2\pi k, k \in \mathbb{Z}$; $\frac{5\pi}{6} + 2\pi k < x < \frac{7\pi}{6} + 2\pi k, k \in \mathbb{Z}$. Запишемо відповідь, врахувавши, що дуги P_{x_1}, P_{x_2} і P_{x_3}, P_{x_4} симетричні відносно початку координат.

Відповідь. $\left(-\frac{\pi}{6} + \pi k < x < \frac{\pi}{6} + \pi k\right), k \in \mathbb{Z}$.

Приклад 1. Розв'язати нерівність $\sin 3x \geq \frac{\sqrt{2}}{2}$.

■ $3x \in \left[\arcsin \frac{\sqrt{2}}{2} + 2\pi k; \pi - \arcsin \frac{\sqrt{2}}{2} + 2\pi k\right], k \in \mathbb{Z}; 3x \in \left[\frac{\pi}{4} + 2\pi k; \frac{3\pi}{4} + 2\pi k\right], k \in \mathbb{Z};$

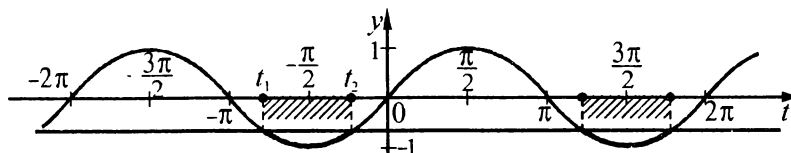


$$x \in \left[\frac{\pi}{12} + \frac{2\pi k}{3}; \frac{\pi}{4} + \frac{2\pi k}{3} \right], k \in \mathbf{Z}.$$

Відповідь. $\left[\frac{\pi}{12} + \frac{2\pi k}{3}; \frac{\pi}{4} + \frac{2\pi k}{3} \right], k \in \mathbf{Z}.$ ■

Приклад 2. Розв'язати нерівність $\sin\left(\frac{x}{4}-1\right) \leq -\frac{\sqrt{2}}{2}$. У відповідь записати кількість цілих розв'язків нерівності з проміжку $[-6; 2]$.

■ Уведемо нову змінну $t = \frac{x}{4} - 1$ і розв'яжемо нерівність $\sin t \leq -\frac{\sqrt{2}}{2}$ (див. рис.).



Знайдемо абсциси точок t_1 і t_2 ($t_1 < t_2$): $t_1 = -\pi + \arcsin\frac{\sqrt{2}}{2} = -\pi + \frac{\pi}{4} = -\frac{3\pi}{4}$; $t_2 = \arcsin\left(-\frac{\sqrt{2}}{2}\right) = -\frac{\pi}{4}$.

$$-\frac{3\pi}{4} + 2\pi k \leq t \leq -\frac{\pi}{4} + 2\pi k, k \in \mathbf{Z}. \text{ Повернемося до заміни: } -\frac{3\pi}{4} + 2\pi k \leq \frac{x}{4} - 1 \leq -\frac{\pi}{4} + 2\pi k, k \in \mathbf{Z};$$

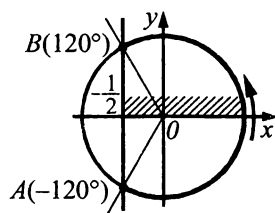
$1 - \frac{3\pi}{4} + 2\pi k \leq \frac{x}{4} \leq 1 - \frac{\pi}{4} + 2\pi k, k \in \mathbf{Z}; 4 - 3\pi + 8\pi k \leq x \leq 4 - \pi + 8\pi k, k \in \mathbf{Z}.$ Якщо $k = 0$, то цілими розв'язками є числа $-5, -4, -3, -2, -1, 0$, усього їх є 6. Якщо $k = \pm 1, \pm 2, \dots$, то розв'язків на проміжку $[-6; 2]$ немає.

Відповідь. 6. ■

Приклад 3. Визначити найменше додатне значення x , для якого виконується нерівність $2 \cos\left(x - \frac{5\pi}{6}\right) \geq -1$.

А	Б	В	Г	Д
0°	30°	45°	60°	90°

■ Запишемо нерівність у вигляді $\cos(x - 150^\circ) \geq -\frac{1}{2}$.



Далі маємо: $-120^\circ + 360^\circ n \leq x - 150^\circ \leq 120^\circ + 360^\circ n, n \in \mathbf{Z}; 30^\circ + 360^\circ n \leq x \leq 270^\circ + 360^\circ \cdot n, n \in \mathbf{Z}.$
Відповідь. Б. ■

Приклад 4. Розв'язати нерівність $\cos^2 x < \frac{3}{4}$.

■ $\cos^2 x < \frac{3}{4}; \frac{1 + \cos 2x}{2} < \frac{3}{4}; 1 + \cos 2x < \frac{3}{2}; \cos 2x < \frac{1}{2}; \arccos\frac{1}{2} + 2\pi k < 2x < 2\pi - \arccos\frac{1}{2} + 2\pi k,$

$$k \in \mathbf{Z}; \frac{\pi}{3} + 2\pi k < 2x < 2\pi - \frac{\pi}{3} + 2\pi k, k \in \mathbf{Z}; \frac{\pi}{3} + 2\pi k < 2x < \frac{5\pi}{3} + 2\pi k, k \in \mathbf{Z}; \frac{\pi}{6} + \pi k < x < \frac{5\pi}{6} + \pi k, k \in \mathbf{Z}.$$

Відповідь. $\left(\frac{\pi}{6} + \pi k < x < \frac{5\pi}{6} + \pi k\right), k \in \mathbf{Z}. \blacksquare$

Приклад 5. Розв'язати нерівність $\sqrt{3} \sin 2x + \cos 2x \geq 1$.

■ $\sqrt{3} \sin 2x + \cos 2x \geq 1; \frac{\sqrt{3}}{2} \sin 2x + \frac{1}{2} \cos 2x \geq \frac{1}{2}; \sin 2x \cos \frac{\pi}{6} + \cos 2x \sin \frac{\pi}{6} \geq \frac{1}{2}; \sin\left(2x + \frac{\pi}{6}\right) \geq \frac{1}{2};$

$$\arcsin \frac{1}{2} + 2\pi k \leq 2x + \frac{\pi}{6} \leq \pi - \arcsin \frac{1}{2} + 2\pi k, k \in \mathbf{Z}; \frac{\pi}{6} + 2\pi k \leq 2x + \frac{\pi}{6} \leq \pi - \frac{\pi}{6} + 2\pi k, k \in \mathbf{Z};$$

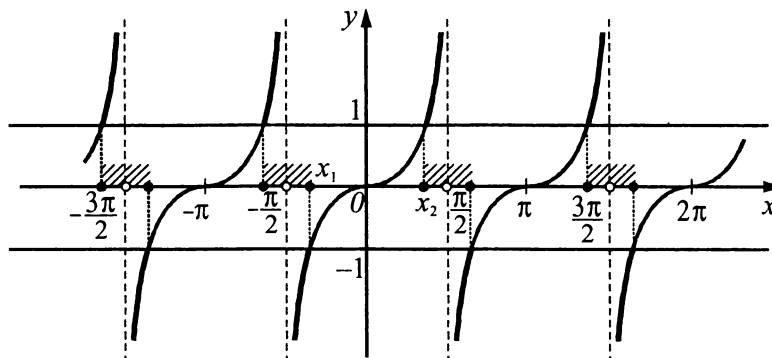
$$\frac{\pi}{6} - \frac{\pi}{6} + 2\pi k \leq 2x \leq \pi - \frac{\pi}{6} - \frac{\pi}{6} + 2\pi k, k \in \mathbf{Z}; 2\pi k \leq 2x \leq \frac{2\pi}{3} + 2\pi k, k \in \mathbf{Z}; \pi k \leq x \leq \frac{\pi}{3} + \pi k, k \in \mathbf{Z}.$$

Відповідь. $\left[\pi k; \frac{\pi}{3} + \pi k\right] k \in \mathbf{Z}. \blacksquare$

Приклад 6. Розв'язати нерівність $|\operatorname{tg} x| \geq 1$.

■ Запишемо дану нерівність у вигляді сукупності нерівностей $\begin{cases} \operatorname{tg} x \leq -1; \\ \operatorname{tg} x \geq 1. \end{cases}$ Побудуємо графіки

функцій $y = \operatorname{tg} x, y = -1$ і $y = 1$ та виділимо проміжки, на яких графік функції $y = \operatorname{tg} x$ розташований вище від прямої $y = 1$ і нижче від прямої $y = -1$.



Знайдемо абсциси точок x_1 і x_2 ($x_1 < x_2$): $x_1 = \operatorname{arctg}(-1) = -\frac{\pi}{4}; x_2 = \operatorname{arctg} 1 = \frac{\pi}{4}.$

Відповідь. $\left(-\frac{\pi}{2} + \pi k; -\frac{\pi}{4} + \pi k\right) \cup \left[\frac{\pi}{4} + \pi k; \frac{\pi}{2} + \pi k\right), k \in \mathbf{Z}. \blacksquare$

Приклад 7. Знайти всі значення параметра a із проміжку $\left[-\frac{\pi}{2}; \frac{3\pi}{2}\right]$, для кожного з яких нерів-

ність $\sin^2 x + \cos^2(x-a) \geq \frac{3}{4} + 2 \sin x \sin a \cos(x-a)$ виконується для всіх x . У відповідь записати найбільше значення параметра з цього проміжка (у градусах).

■ Виконаємо перетворення: $\sin^2 x + \cos^2(x-a) \geq \frac{3}{4} + 2 \sin x \sin a \cos(x-a);$

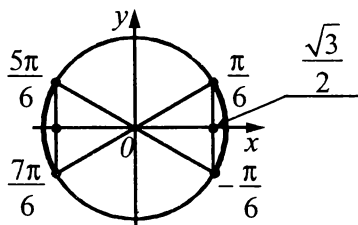
$$\sin^2 x - \frac{3}{4} \geq 2 \sin x \sin a \cos(x-a) - \cos^2(x-a); \sin^2 x - \frac{3}{4} \geq \cos(x-a)(2 \sin x \sin a - \cos(x-a));$$

$$\sin^2 x - \frac{3}{4} \geq (\cos x \cos a + \sin x \sin a)(2 \sin x \sin a - \cos x \cos a - \sin x \sin a);$$

$$\sin^2 x - \frac{3}{4} \geq (\sin x \sin a + \cos x \cos a)(\sin x \sin a - \cos x \cos a); \sin^2 x - \frac{3}{4} \geq \sin^2 x \sin^2 a - \cos^2 x \cos^2 a;$$

$$\sin^2 x (1 - \sin^2 a) + \cos^2 x \cos^2 a \geq \frac{3}{4}; \sin^2 x \cos^2 a + \cos^2 x \cos^2 a \geq \frac{3}{4}; \cos^2 a (\sin^2 x + \cos^2 x) \geq \frac{3}{4}; \cos^2 a \geq \frac{3}{4};$$

$$|\cos a| \geq \frac{\sqrt{3}}{2}.$$



Отже, $a \in \left[-\frac{\pi}{6} + 2\pi k; \frac{\pi}{6} + 2\pi k\right] \cup \left[\frac{5\pi}{6} + 2\pi k; \frac{7\pi}{6} + 2\pi k\right]$, $k \in \mathbb{Z}$. Найбільше значення a з проміжку

$$\left[-\frac{\pi}{2}; \frac{3\pi}{2}\right] - \frac{7\pi}{6} = 210^\circ.$$

Відповідь. 210° . ■

Завдання 19.1–19.20 мають по п'ять варіантів відповідей, з яких тільки **ОДНА ПРАВИЛЬНА**. Оберіть правильну, на Вашу думку, відповідь.

19.1. Розв'язати нерівність $2 \sin 2x > -\sqrt{2}$.

А	Б	В	Г	Д
$\left(-\frac{\pi}{8} + \pi k; \frac{3\pi}{8} + \pi k\right)$, $k \in \mathbb{Z}$	$\left(-\frac{\pi}{4} + \pi k; \frac{3\pi}{4} + \pi k\right)$, $k \in \mathbb{Z}$	$\left(\frac{\pi}{4} + 2\pi k; \frac{3\pi}{4} + 2\pi k\right)$, $k \in \mathbb{Z}$	$\left(\frac{\pi}{8} + 2\pi k; \frac{5\pi}{8} + 2\pi k\right)$, $k \in \mathbb{Z}$	$\left(-\frac{\pi}{8} + \pi k; \frac{5\pi}{8} + \pi k\right)$, $k \in \mathbb{Z}$

19.2. Знайти довжину кожного з відрізків координатної прямої, які утворюють розв'язки нерівності $2 \sin x \leq 1$.

А	Б	В	Г	Д
$\frac{3\pi}{2}$	$\frac{6\pi}{3}$	$\frac{4\pi}{3}$	$\frac{8\pi}{3}$	$\frac{2\pi}{3}$

19.3. Розв'язати нерівність $\cos \pi x > \frac{1}{2}$.

А	Б	В	Г	Д
$\left(\frac{\pi}{3} + 2\pi k; \frac{\pi}{3} + 2\pi k\right)$, $k \in \mathbb{Z}$	$\left(-\frac{1}{8} + 2k; \frac{1}{6} + 2k\right)$, $k \in \mathbb{Z}$	$\left(\frac{1}{3} + 2k; \frac{7}{3} + 2k\right)$, $k \in \mathbb{Z}$	$\left(-\frac{1}{3} + k; \frac{1}{3} + k\right)$, $k \in \mathbb{Z}$	$\left(-\frac{1}{3} + 2k; \frac{1}{3} + 2k\right)$, $k \in \mathbb{Z}$

19.4. Знайти довжину кожного з відрізків координатної прямої, які утворюють розв'язки нерівності

$$\cos^2 \frac{x}{2} - \sin^2 \frac{x}{2} \leq -\frac{\sqrt{3}}{2}.$$

А	Б	В	Г	Д
$\frac{\pi}{3}$	$\frac{\pi}{6}$	$\frac{5\pi}{6}$	$\frac{7\pi}{3}$	$\frac{2\pi}{3}$

19.5. Розв'язати нерівність $\sqrt{3} \operatorname{tg}\left(x + \frac{\pi}{6}\right) > 1$.

А	Б	В	Г	Д
$\left(\frac{\pi}{4} + \pi n; \frac{\pi}{2} + \pi n\right),$ $n \in Z$	$\left(\frac{\pi}{3} + \pi n; \frac{\pi}{2} + \pi n\right),$ $n \in Z$	$\left(\frac{\pi}{6} + \pi n; \frac{\pi}{2} + \pi n\right),$ $n \in Z$	$\left(-\frac{\pi}{2} + \pi n; \frac{\pi}{6} + \pi n\right),$ $n \in Z$	$\left(\pi n; \frac{\pi}{3} + \pi n\right),$ $n \in Z$

19.6. Серед наведених нерівностей вибрати ту, яка не має розв'язків.

А	Б	В	Г	Д
$\cos x < -\frac{3}{4}$	$\sin x \geq 0,2$	$\operatorname{arctg} x \geq 2$	$\operatorname{tg} x \leq \frac{1}{\sqrt{3}}$	$\operatorname{arctg} x \leq 1,2$

19.7. Серед наведених нерівностей вибрати ту, яка має розв'язки.

А	Б	В	Г	Д
$\cos x \geq \frac{3}{2}$	$\cos x < -1$	$\sin x > 1$	$\operatorname{tg} x \leq \sqrt{3}$	$\arcsin x \leq -\pi$

19.8. Розв'язати нерівність $\cos 5x \cos x - \sin 5x \sin x < -\frac{1}{2}$.

А	Б	В	Г	Д
$\left(\frac{2}{3}\pi + 2\pi n; \frac{4}{3}\pi + 2\pi n\right),$ $n \in Z$	$\left(\frac{\pi}{6}\pi + 2\pi n; \frac{\pi}{3}\pi + 2\pi n\right),$ $n \in Z$	$\left(-\frac{4}{3}\pi + 2\pi n; \frac{2}{3}\pi + 2\pi n\right),$ $n \in Z$	$\left(\frac{\pi}{9} + \frac{\pi n}{3}; \frac{2\pi}{9} + \frac{\pi n}{3}\right),$ $n \in Z$	$\left(-\frac{2}{9}\pi + \frac{\pi n}{3}; \frac{\pi}{9} + \frac{\pi n}{3}\right),$ $n \in Z$

19.9. Розв'язати нерівність $\sin^2 x > \frac{1}{4}$.

А	Б	В	Г	Д
$\left(\frac{\pi}{6} + 2\pi n; \frac{5}{6}\pi + 2\pi n\right),$ $n \in Z$	$\left(-\frac{\pi}{6} + 2\pi n; \frac{\pi}{6}\pi + 2\pi n\right),$ $n \in Z$	$\left(-\frac{\pi}{6} + 2\pi n; \frac{7}{6}\pi + 2\pi n\right),$ $n \in Z$	$\left(-\frac{\pi}{6} + \pi n; \frac{\pi}{6} + 2\pi n\right),$ $n \in Z$	$\left(\frac{\pi}{6} + \pi n; \frac{5}{6}\pi + \pi n\right),$ $n \in Z$

19.10. Розв'язати нерівність $\cos^2 x \leq \frac{1}{4}$.

А	Б	В	Г	Д
$\left[-\frac{\pi}{3} + \pi k; \frac{\pi}{3} + \pi k\right],$ $k \in Z$	$\left[\frac{\pi}{3} + \pi k; \frac{2\pi}{3} + \pi k\right],$ $k \in Z$	$\left(-\frac{\pi}{3} + 2\pi k; \frac{\pi}{3} + 2\pi k\right),$ $k \in Z$	$\left[\frac{\pi}{3} + 2\pi k; \frac{2}{3}\pi + 2\pi k\right],$ $k \in Z$	$\left(\frac{\pi}{3} + \pi k; \frac{2}{3}\pi + \pi k\right),$ $k \in Z$

19.11. Розв'язати нерівність $(2 \sin x - 3) \operatorname{tg} x \geq 0$.

А	Б	В	Г	Д
$\left(-\frac{\pi}{2} + 2\pi n; 2\pi n\right),$ $n \in Z$	$\left[\pi n; \frac{\pi}{2} + \pi n\right),$ $n \in Z$	$\left(-\frac{\pi}{2} + \pi n; \pi n\right),$ $n \in Z$	\emptyset	$\left[-\frac{\pi}{2} + \pi n; \pi n\right),$ $n \in Z$

19.12. Розв'язати нерівність $\sin x < \cos x$.

А	Б	В	Г	Д
$\left(-\frac{\pi}{4} + 2\pi n; \frac{\pi}{2} + 2\pi n\right),$ $n \in Z$	$\left(-\frac{3}{4}\pi + \pi n; \frac{\pi}{4} + \pi n\right),$ $n \in Z$	$\left(\frac{3}{4}\pi + 2\pi n; \frac{\pi}{4} + 2\pi n\right),$ $n \in Z$	$(-\pi + 2\pi n; 2\pi n),$ $n \in Z$	$\left(\frac{\pi}{4} + 2\pi n; \frac{5}{4}\pi + 2\pi n\right),$ $n \in Z$

19.13. Розв'язати нерівність $\sin x - \cos x > 1$.

А	Б	В	Г	Д
$\left(\frac{\pi}{2} + 2\pi k; \pi + 2\pi k\right),$ $k \in Z$	$\left(\frac{\pi}{4} + 2\pi k; \frac{3}{4} + 2\pi k\right),$ $k \in Z$	$\left(\frac{\pi}{2} + \pi k; \pi + \pi k\right),$ $k \in Z$	$\left(\frac{3}{4}\pi + \pi k; \frac{9}{4}\pi + \pi k\right),$ $k \in Z$	$\left(\pi + 2\pi k; \frac{5}{2}\pi + 2\pi k\right),$ $k \in Z$

19.14. Розв'язати нерівність $\sqrt{\sin x} \geq \sqrt{\cos x}$.

А	Б	В	Г	Д
$\left[\frac{\pi}{4} + 2\pi k; \frac{5}{4}\pi + 2\pi k\right],$ $k \in Z$	$\left[2\pi k; \frac{\pi}{2} + 2\pi k\right],$ $k \in Z$	$\left(2\pi k; \frac{\pi}{2} + 2\pi k\right),$ $k \in Z$	\emptyset	$\left[\frac{\pi}{4} + 2\pi k; \frac{\pi}{2} + 2\pi k\right],$ $k \in Z$

19.15. Розв'язати нерівність $|\sin x| < \frac{1}{2}$.

А	Б	В	Г	Д
$\left(-\frac{\pi}{6} + 2\pi k; \frac{\pi}{6} + 2\pi k\right),$ $k \in Z$	$\left(\frac{\pi}{6} + \pi k; \frac{5}{6}\pi + \pi k\right),$ $k \in Z$	$\left(-\frac{\pi}{6} + \pi k; \frac{\pi}{6} + \pi k\right),$ $k \in Z$	$\left(\frac{\pi}{6} + 2\pi k; \frac{5}{6}\pi + 2\pi k\right),$ $k \in Z$	$\left(-\frac{\pi}{6} + \pi k; \frac{7}{6}\pi + \pi k\right),$ $k \in Z$

19.16. Розв'язати нерівність $|\cos x| > \frac{1}{2}$.

А	Б	В	Г	Д
$\left(\frac{\pi}{3} + \pi k; \frac{2}{3}\pi + \pi k\right),$ $k \in Z$	$\left(\frac{\pi}{3} + \pi k; \frac{5}{6}\pi + \pi k\right),$ $k \in Z$	$\left(\frac{\pi}{3} + \pi k; \frac{2\pi}{3} + \pi k\right),$ $k \in Z$	$\left(-\frac{\pi}{3} + 2\pi k; \frac{\pi}{3} + 2\pi k\right),$ $k \in Z$	$\left(-\frac{\pi}{3} + \pi k; \frac{\pi}{3} + \pi k\right),$ $k \in Z$

19.17. Розв'язати нерівність $\arccos x \leq \frac{1}{2}$.

А	Б	В	Г	Д
$\left[\cos \frac{1}{2}; 1\right]$	$\left[0; \frac{\pi}{3}\right]$	$\left[-1; \cos \frac{1}{2}\right]$	$\left(\cos \frac{1}{2}; 1\right)$	$\left(-1; \cos \frac{1}{2}\right)$

19.18. Розв'язати нерівність $0 < \arcsin x \leq \frac{\pi}{3}$.

А	Б	В	Г	Д
$\left[0; \frac{\sqrt{3}}{2}\right)$	$\left(0; \frac{1}{2}\right]$	$\left(0; \frac{\sqrt{2}}{2}\right]$	$\left(0; \frac{\sqrt{3}}{2}\right]$	$\left[0; \frac{1}{2}\right)$

19.19. Розв'язати нерівність $\operatorname{arctg} x \geq \frac{\pi}{3}$.

А	Б	В	Г	Д
$(-\infty; \sqrt{3}]$	$\left[\frac{\sqrt{3}}{3}; +\infty\right)$	$[1; +\infty)$	$[\sqrt{3}; +\infty)$	$\left(-\infty; \frac{\sqrt{3}}{3}\right]$

19.20. Розв'язати нерівність $-\frac{\pi}{4} < \arctg x \leq \frac{\pi}{3}$.

А	Б	В	Г	Д
$(-\sqrt{3}; 1]$	$(-1; \frac{\sqrt{3}}{3}]$	$(-1; \sqrt{3}]$	$[-\sqrt{3}; 1)$	$[-\frac{\sqrt{3}}{3}; 1)$

Завдання 19.21–19.27 передбачають установлення відповідності. До кожного рядка, позначеного ЦИФРОЮ, доберіть один відповідник, позначений БУКВОЮ, і поставте позначки на перетині відповідних рядків (цифри) і колонок (букви).

19.21. Установити відповідність між заданими нерівностями (1–4) та їх найбільшими розв'язками на проміжку $[0; 2\pi]$ (А–Д).

1 $\cos x \leq -\frac{1}{2}$	А $\frac{5\pi}{6}$
2 $\sin x \geq \frac{1}{2}$	Б $\frac{3\pi}{4}$
3 $\tg x \leq 1$	В 2π
4 $\ctg x \geq -1$	Г $\frac{7\pi}{4}$
	Д $\frac{4\pi}{3}$

19.22. Установити відповідність між заданими нерівностями (1–4) та їх найменшими розв'язками на проміжку $[0; \pi]$ (А–Д).

1 $\cos^2 x - \sin^2 x < 2$	А $\frac{\pi}{8}$
2 $\sin 2x \geq 1$	Б $\frac{\pi}{2}$
3 $\ctg 2x \leq 1$	В $\frac{\pi}{4}$
4 $\tg \frac{1}{2}x \geq 1$	Г 0
	Д π

19.23. Установити відповідність між нерівностями (1–4) та їх розв'язками (А–Д).

1 $\sin \frac{x}{2} > \frac{1}{2}$	А $\frac{2\pi}{3} + 4\pi n < x < \frac{4\pi}{3} + 4\pi n, n \in \mathbf{Z}$
2 $\sin \frac{x}{2} < \frac{\sqrt{2}}{2}$	Б $\frac{\pi}{3} + 4\pi n < x < \frac{5\pi}{3} + 4\pi n, n \in \mathbf{Z}$
3 $\sin \frac{x}{2} > \frac{\sqrt{3}}{2}$	В $\frac{3\pi}{2} + 4\pi n < x < \frac{9\pi}{2} + 4\pi n, n \in \mathbf{Z}$
4 $\sin \frac{x}{2} < -2$	Г $\frac{\pi}{3} + 4\pi n < x < \frac{5\pi}{3} + 4\pi n, n \in \mathbf{Z}$
	Д \emptyset

19.24. Установити відповідність між нерівностями (1–4) та їх розв'язками (А–Д).

- | | |
|-----------------------------------|---|
| 1 $\cos 2x > \frac{1}{2}$ | А $-\frac{3\pi}{8} + \pi n < x < \frac{3\pi}{8} + \pi n, n \in \mathbf{Z}$ |
| 2 $\cos 2x < \frac{\sqrt{3}}{2}$ | Б $\frac{3\pi}{8} + \pi n < x < \frac{5\pi}{8} + \pi n, n \in \mathbf{Z}$ |
| 3 $\cos 2x > -\frac{1}{2}$ | В $\frac{\pi}{12} + \pi n < x < \frac{11\pi}{12} + \pi n, n \in \mathbf{Z}$ |
| 4 $\cos 2x < -\frac{\sqrt{2}}{2}$ | Г $-\frac{\pi}{3} + \pi n < x < \frac{\pi}{3} + \pi n, n \in \mathbf{Z}$ |
| | Д $-\frac{\pi}{6} + \pi n < x < \frac{\pi}{6} + \pi n, n \in \mathbf{Z}$ |

19.25. Установити відповідність між нерівностями (1–4) та їх розв'язками (А–Д).

- | | |
|--|--|
| 1 $\operatorname{tg} 4x > 1$ | А $-\frac{\pi}{8} + \frac{\pi n}{4} < x < \frac{\pi}{24} + \frac{\pi n}{4}, n \in \mathbf{Z}$ |
| 2 $\operatorname{tg} 4x < -\sqrt{3}$ | Б $-\frac{\pi}{8} + \frac{\pi n}{4} < x < \frac{\pi}{12} + \frac{\pi n}{4}, n \in \mathbf{Z}$ |
| 3 $\operatorname{tg} 4x > -\frac{1}{\sqrt{3}}$ | В $-\frac{\pi}{8} + \frac{\pi n}{4} < x < -\frac{\pi}{12} + \frac{\pi n}{4}, n \in \mathbf{Z}$ |
| 4 $\operatorname{tg} 4x < \sqrt{3}$ | Г $\frac{\pi}{16} + \frac{\pi n}{4} < x < \frac{\pi}{8} + \frac{\pi n}{4}, n \in \mathbf{Z}$ |
| | Д $-\frac{\pi}{24} + \frac{\pi n}{4} < x < \frac{\pi}{8} + \frac{\pi n}{4}, n \in \mathbf{Z}$ |

19.26. Установити відповідність між нерівностями (1–4) та їх розв'язками (А–Д).

- | | |
|---|---|
| 1 $\operatorname{ctg} \frac{x}{3} > \sqrt{3}$ | А $\frac{\pi}{2} + 3\pi n < x < 3\pi(n+1), n \in \mathbf{Z}$ |
| 2 $\operatorname{ctg} \frac{x}{3} < \frac{1}{\sqrt{3}}$ | Б $3\pi n < x < \frac{9\pi}{4} + 3\pi n, n \in \mathbf{Z}$ |
| 3 $\operatorname{ctg} \frac{x}{3} > -1$ | В $3\pi n < x < \frac{\pi}{2} + 3\pi n, n \in \mathbf{Z}$ |
| 4 $\operatorname{ctg} \frac{x}{3} < -\sqrt{3}$ | Г $\pi(3n+1) < x < 3\pi(n+1), n \in \mathbf{Z}$ |
| | Д $\frac{5\pi}{2} + 3\pi n < x < 3\pi(n+1), n \in \mathbf{Z}$ |

19.27. Установити відповідність між нерівностями (1–4) та їх розв'язками (А–Д).

- | | |
|--|---|
| 1 $\cos^2 x - \sin^2 x > -\frac{1}{\sqrt{2}}$ | А $\frac{\pi}{8} + \pi n < x < \frac{3\pi}{8} + \pi n, n \in \mathbf{Z}$ |
| 2 $\cos x \cos 3x - \sin x \sin 3x < \frac{\sqrt{3}}{2}$ | Б $\frac{2\pi}{3} + 2\pi n < x < \frac{4\pi}{3} + 2\pi n, n \in \mathbf{Z}$ |
| 3 $\cos 2x \cos x + \sin 2x \sin x < -\frac{1}{2}$ | В $-\frac{3\pi}{8} + \pi n < x < \frac{3\pi}{8} + \pi n, n \in \mathbf{Z}$ |
| 4 $\sin^2 x > \frac{1}{4}$ | Г $\frac{\pi}{24} + \frac{\pi n}{2} < x < \frac{11\pi}{24} + \frac{\pi n}{2}, n \in \mathbf{Z}$ |
| | Д $\frac{\pi}{6} + \pi n < x < \frac{5\pi}{6} + \pi n, n \in \mathbf{Z}$ |

Розв'яжіть завдання 19.28–19.33. Відповідь запишіть десятковим дробом.

- 19.28. Розв'язати нерівність $\sin\left(\frac{3}{4}x + \frac{\pi}{9}\right) \geq \frac{\sqrt{3}}{2}$. У відповідь записати найменший додатний цілий розв'язок нерівності.
- 19.29. Розв'язати нерівність $2\sin^2 x - 5\sin x + 2 < 0$. У відповідь записати найбільший цілий розв'язок нерівності на проміжку $[0; 2\pi]$.
- 19.30. Розв'язати нерівність $\cos 2x + \cos x \geq 0$. У відповідь записати найбільший цілий розв'язок нерівності на проміжку $[0; 2\pi]$.
- 19.31. Розв'язати нерівність $2\sin^4 2x \geq \sin^2 2x$. У відповідь записати найбільший цілий розв'язок нерівності на проміжку $[0; 2\pi]$.
- 19.32. Розв'язати нерівність $\sqrt{3}\sin x + \cos x < 1$. У відповідь записати найменший цілий розв'язок нерівності на проміжку $[0; 2\pi]$.
- 19.33. Розв'язати нерівність $\arcsin \frac{1}{x} + \arccos \frac{1}{x} < 2$. У відповідь записати найменший додатний розв'язок нерівності.

Тема 20. Системи рівнянь

Якщо завдання полягає у відшуванні спільних розв'язків кількох рівнянь, то кажуть, що треба розв'язати *систему рівнянь*. Наприклад, $\begin{cases} 5x - 2y = 3; \\ x + y = 15 \end{cases}$ — система двох лінійних рівнянь із двома невідомими.

Розв'язком системи рівнянь називають такий набір значень невідомих, який задовольняє кожне з рівнянь системи. Розв'язати систему рівнянь означає знайти всі її розв'язки або довести, що система не має розв'язків.

Дві системи рівнянь називають *рівносильними*, якщо множини їх розв'язків збігаються. Справедливі такі твердження:

1. Якщо рівняння системи замінити рівносильним йому рівнянням, то отримаємо систему, рівносильну даній.

2. Якщо одне рівняння системи замінити його почастинною сумою з іншим, то отримаємо систему, рівносильну даній.

Основними способами розв'язування систем рівнянь є графічний, спосіб підстановки і додавання.

Графічний спосіб

Щоб розв'язати систему рівнянь графічно, слід в одній системі координат побудувати графіки кожного з рівнянь і знайти спільні точки цих графіків. Координати точок перетину будуть наближеними розв'язками системи, які можна уточнити перевіркою.

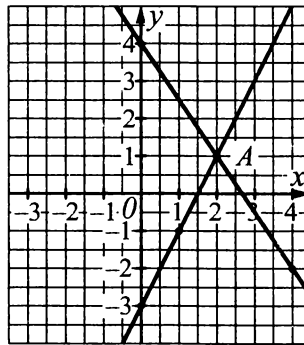
Наприклад, знайти графічним способом розв'язки системи рівнянь $\begin{cases} 3x + 2y = 8; \\ 2x - y = 3. \end{cases}$ Кожне з рівнянь

системи є лінійним, тому їхніми графіками є прямі.

$3x + 2y = 8$		
x	0	4
y	4	-2

$2x - y = 3$		
x	0	1
y	-3	-1

Будуємо графіки рівнянь в одній системі координат.



Графіки перетинаються в одній точці — точці $A(2; 1)$. Перевіркою встановлюємо, що $(2; 1)$ — розв'язок системи.

Відповідь. $(2; 1)$.

Спосіб підстановки

Спосіб підстановки полягає в тому, що одне з рівнянь подають у вигляді $y = f(x)$ або $x = g(y)$ (виражають одну змінну через іншу) і підставляють в інше рівняння замість змінної отриманий вираз. У результаті такої підстановки отримують рівняння з однією змінною. Розв'язавши його, підставляють отриманий корінь в інше рівняння системи і визначають значення іншої змінної.

Наприклад, розв'язати систему рівнянь $\begin{cases} x - y = 1; \\ x^3 - y^3 = 7. \end{cases}$ Виразимо з першого рівняння системи змінну

x через змінну y : $x = 1 + y$ та підставимо одержане значення у друге рівняння системи. Маємо: $(1 + y)^3 -$

$-y^3 = 7; 1 + 3y + 3y^2 + y^3 - y^3 = 7; 3y^2 + 3y - 6 = 0; y^2 + y - 2 = 0; y_1 = -2, y_2 = 1$. Підставимо знайдені значення й одержимо: $x_1 = 1 + (-2) = -1; x_2 = 1 + 1 = 2$. Отже, розв'язками системи є $(-1; -2)$ і $(2; 1)$.

Відповідь. $(-1; -2), (2; 1)$.

Спосіб додавання

Суть способу додавання полягає в тому, що рівняння системи домножують на такі числа, щоб у них коефіцієнти при одній зі змінних стали протилежними числами. Тоді, почастинно додавши ці рівняння, отримують алгебраїчне рівняння з однією змінною і т. д.

Наприклад, розв'язати систему рівнянь $\begin{cases} 3x - 2y = 11; \\ x + y = 7. \end{cases}$ Домножимо друге рівняння на 2 й одержимо:

мо: $\begin{cases} 3x - 2y = 11; \\ x + y = 7; \end{cases} \cdot 2 \quad \begin{cases} 3x - 2y = 11; \\ 2x + 2y = 14. \end{cases}$ Додамо рівняння системи й результат запишемо другим рівнянням, а перше рівняння перепишемо без змін:

$\begin{cases} 3x - 2y = 11; \\ 5x = 25. \end{cases}$ Виконаємо перетворення й підставимо знайдене значення x у перше рівняння:

$\begin{cases} 2y = 3x - 11; \\ x = 5; \end{cases} \quad \begin{cases} 2y = 3 \cdot 5 - 11; \\ x = 5; \end{cases} \quad \begin{cases} y = 2; \\ x = 5. \end{cases}$ Отже, $(5; 2)$ — розв'язок системи.

Відповідь. $(5; 2)$.

Систему алгебраїчних рівнянь часто можна спростити, якщо ввести нові значення для невідомих.

Наприклад, розв'язуючи систему $\begin{cases} \frac{1}{2x-y} + y = 2; \\ \frac{y}{2x-y} = 1, \end{cases}$ зручно ввести заміну $z = \frac{1}{2x-y}$ й одержати

систему $\begin{cases} z + y = 2; \\ yz = 1, \end{cases}$ звідки $\begin{cases} y = 1; \\ z = 1. \end{cases}$ Повертаючись до заміни, отримаємо систему рівнянь $\begin{cases} y = 1; \\ \frac{1}{2x-y} = 1, \end{cases}$ з

якої знайдемо розв'язок вихідної системи — $(1; 1)$.

Відповідь. $(1; 1)$.

Приклад 1. Розв'язати систему рівнянь $\begin{cases} 2x - y = 7; \\ -3x + 4y = -8. \end{cases}$

■ З першого рівняння отримуємо: $y = 2x - 7$. Підставивши замість y в друге рівняння вираз $2x - 7$, отримаємо: $-3x + 4(2x - 7) = -8; 5x = 20; x = 4$.

Тоді $y = 2 \cdot 4 - 7 = 1$. Розв'язок системи рівнянь: $(4; 1)$.

Відповідь. $(4; 1)$. ■

Приклад 2. Нехай $(x_0; y_0)$ — розв'язок системи рівнянь $\begin{cases} \sqrt{25 - 10x + x^2} + y = 4; \\ y - 3x + 11 = 0. \end{cases}$ Знайти добуток

$x_0 \cdot y_0$.

■ Спочатку розв'яжемо систему рівнянь: $\begin{cases} \sqrt{25 - 10x + x^2} + y = 4; \\ y - 3x + 11 = 0; \end{cases} \quad \begin{cases} \sqrt{(x-5)^2} + y = 4; \\ y = 3x - 11; \end{cases}$

$\begin{cases} |x-5| + 3x - 11 = 4; \\ y = 3x - 11; \end{cases} \quad \begin{cases} |x-5| + 3x = 15; \\ y = 3x - 11. \end{cases}$ 1. Нехай $x - 5 \geq 0$, тобто $x \geq 5$. $\begin{cases} x - 5 + 3x = 15; \\ y = 3x - 11; \end{cases} \quad \begin{cases} 4x = 20; \\ y = 3x - 11; \end{cases}$

$\begin{cases} x=5; \\ y=4. \end{cases}$ 2. Нехай $x-5 < 0$, тобто $x < 5$. $\begin{cases} -x+5+3x=15; \\ y=3x-11; \end{cases}$ $\begin{cases} 2x=10; \\ y=3x-11; \end{cases}$ $x=5$ — не підходить. Отже,
 $x_0 = 5, y_0 = 4$. Тоді $x_0 \cdot y_0 = 5 \cdot 4 = 20$.

Відповідь. 20. ■

Приклад 3. Розв'язати систему рівнянь $\begin{cases} 3^x \cdot 5^y = 75; \\ 3^y \cdot 5^x = 45. \end{cases}$

А	Б	В	Г	Д
(1; 2)	(3; 5)	(2; 1)	інша відповідь	(2; 3)

■ $\begin{cases} 3^x \cdot 5^y = 75; \\ 3^y \cdot 5^x = 45; \end{cases}$ $\begin{cases} \frac{3^x \cdot 5^y}{3^y \cdot 5^x} = \frac{75}{45}; \\ 3^x \cdot 5^y \cdot 3^y \cdot 5^x = 75 \cdot 45; \end{cases}$ $\begin{cases} 3^{x-y} \cdot 5^{y-x} = \frac{75}{45}; \\ 3^{x+y} \cdot 5^{x+y} = 5 \cdot 15 \cdot 3 \cdot 15; \end{cases}$ $\begin{cases} 3^{x-y} \cdot \frac{1}{5^{x-y}} = \frac{5}{3}; \\ 15^{x+y} = 15^3; \end{cases}$ $\begin{cases} \left(\frac{3}{5}\right)^{x-y} = \left(\frac{3}{5}\right)^{-1}; \\ x+y=3; \end{cases}$

$\begin{cases} x-y=-1; \\ x+y=3; \end{cases}$ $2x=2; x=1, y=2$.

Відповідь. А. ■

Приклад 4. Розв'язати систему рівнянь $\begin{cases} x^4 + y^4 = 17(x+y)^2; \\ xy = 2(x+y). \end{cases}$

■ Уведемо заміну $x+y=t, xy=z$. Перетворимо ліву частину першого рівняння:
 $x^4 + y^4 = x^4 + 2x^2y^2 + y^4 - 2x^2y^2 = (x^2 + y^2)^2 - 2z^2 = (x^2 + 2xy + y^2 - 2xy)^2 - 2z^2 = ((x+y)^2 - 2z)^2 - 2z^2 = (t^2 - 2z)^2 - 2z^2 = t^4 - 4t^2z + 2z^2$. Тоді одержимо: $\begin{cases} t^4 - 4t^2z + 2z^2 = 17t^2; \\ z = 2t; \end{cases}$ звідки перше рівняння

можна переписати так: $t^4 - 2t^2 \cdot 2t + 2 \cdot (2t)^2 = 17t^2; t^4 - 8t^3 - 9t^2 = 0; t^2(t^2 - 8t - 9) = 0$, яке має розв'язки $t_1 = 0, t_2 = -1, t_3 = 9$. Із рівності $z = 2t$ маємо, що $z_1 = 0, z_2 = -2, z_3 = 18$. Тоді одержуємо три системи:

1) $\begin{cases} x+y=0; \\ xy=0, \end{cases}$ звідки розв'язком є $(0; 0)$; 2) $\begin{cases} x+y=-1; \\ xy=-2, \end{cases}$ звідки розв'язками є $(1; -2)$ і $(-2; 1)$;
 3) $\begin{cases} x+y=9; \\ xy=18, \end{cases}$ звідки розв'язками є $(3; 6)$ і $(6; 3)$.

Відповідь. $(0; 0), (1; -2), (-2; 1), (3; 6), (6; 3)$. ■

Приклад 5. Розв'язати систему рівнянь $\begin{cases} x^{x-2y} = 36; \\ 4(x-2y) + \log_6 x = 9. \end{cases}$

■ Прологарифмуємо перше рівняння системи за основою 6, врахувавши, що $x > 0$, а значить, $x^{x-2y} > 0$ й одержимо: $\begin{cases} (x-2y) \log_6 x = 2; \\ x-2y = \frac{1}{4}(9 - \log_6 x). \end{cases}$ Увівши заміну $t = \log_6 x$, одержимо: $\begin{cases} (x-2y) \cdot t = 2; \\ x-2y = \frac{1}{4}(9-t). \end{cases}$

Далі маємо: $\frac{1}{4}(9-t)t = 2; t^2 - 9t + 8 = 0; t_1 = 1, t_2 = 8$.

$$\text{Отже, } \begin{cases} \log_6 x = 1; \\ x - 2y = \frac{1}{4}(9 - \log_6 x); \end{cases} \begin{cases} x = 6; \\ 6 - 2y = \frac{1}{4}(9 - 1); \end{cases} \begin{cases} x = 6; \\ y = 2; \end{cases}$$

$$\begin{cases} \log_6 x = 8; \\ x - 2y = \frac{1}{4}(9 - \log_6 x); \end{cases} \begin{cases} x = 6^8; \\ 6^8 - 2y = \frac{1}{4}(9 - 8); \end{cases} \begin{cases} x = 6^8; \\ y = \frac{4 \cdot 6^8 - 1}{2}. \end{cases}$$

Відповідь. $(6; 2)$, $(6^8; \frac{4 \cdot 6^8 - 1}{2})$. ■

Приклад 6. Розв'язати систему рівнянь $\begin{cases} 10^{1+\lg(x+y)} = 50; \\ \lg(x-y) + \lg(x+y) = 2 - \lg 5. \end{cases}$

■ Прологарифмуємо перше рівняння системи й одержимо: $\begin{cases} (1 + \lg(x+y)) \lg 10 = \lg 50 + \lg 10; \\ \lg((x-y)(x+y)) = 2 - \lg 5; \end{cases}$

$$\begin{cases} 1 + \lg(x+y) = \lg 5 + 1; \\ \lg((x-y)(x+y)) = 2 - \lg 5; \end{cases} \begin{cases} \lg(x+y) = \lg 5; \\ \lg((x-y)(x+y)) = \lg \frac{10^2}{5}; \end{cases} \begin{cases} x+y = 5; \\ (x-y)(x+y) = 20; \end{cases} \begin{cases} x+y = 5; \\ 5(x-y) = 20; \end{cases}$$

$$\begin{cases} x+y = 5; \\ x-y = 4; \end{cases} \begin{cases} x+y = 5; \\ 2x = 9; \end{cases} \begin{cases} x = 4,5; \\ y = 0,5. \end{cases}$$

Відповідь. $(4,5; 0,5)$.

Приклад 7. Розв'язати систему рівнянь $\begin{cases} \frac{x}{y} + \frac{y}{x} = \frac{5}{2}; \\ x^2 - y^2 = 3. \end{cases}$

■ Уведемо заміну $z = \frac{y}{x}$ й одержимо: $\begin{cases} \frac{1}{z} + z = \frac{5}{2}; \\ x^2 - y^2 = 3; \end{cases} \begin{cases} 2z^2 - 5z + 2 = 0; \\ x^2 - y^2 = 3; \end{cases} \begin{cases} z_1 = 0,5; \\ z_2 = 2; \\ x^2 - y^2 = 3; \end{cases} \begin{cases} \frac{y}{x} = 0,5; \\ x^2 - y^2 = 3; \\ \frac{y}{x} = 2; \\ x^2 - y^2 = 3. \end{cases}$

Розглянемо першу систему: $\begin{cases} \frac{y}{x} = 0,5; \\ x^2 - y^2 = 3; \end{cases} \begin{cases} y = 0,5x; \\ x^2 - (0,5x)^2 = 3; \end{cases} \begin{cases} y = 0,5x; \\ 0,75x^2 = 3; \end{cases} \begin{cases} y = 0,5x; \\ x^2 = 4; \end{cases} \begin{cases} x_1 = 2; \\ y_1 = 1; \\ x_2 = -2; \\ y_2 = -1. \end{cases} \text{ Для}$

другої системи матимемо: $\begin{cases} \frac{y}{x} = 2; \\ x^2 - y^2 = 3; \end{cases} \begin{cases} y = 2x; \\ x^2 - 4x^2 = 3; \end{cases} \begin{cases} y = 2x; \\ -3x^2 = 3; \end{cases} \emptyset.$

Отже, розв'язками системи є $(-2; -1)$, $(2; 1)$.

Відповідь. $(-2; -1)$, $(2; 1)$.

Приклад 8. Розв'язати систему рівнянь
$$\begin{cases} |x-1| + |y-2| = 1; \\ y = 3 - |x-1|. \end{cases}$$

■ Розкриємо модулі $|x-1|$ і $|y-2|$.

1. Нехай $x-1 \geq 0$; $y-2 \geq 0$. Тоді матимемо систему:
$$\begin{cases} x-1 \geq 0; \\ y-2 \geq 0; \\ x-1+y-2=1; \\ y=3-(x-1); \end{cases} \quad \begin{cases} x \geq 1; \\ y \geq 2; \\ x+y=4; \end{cases} \quad \begin{cases} x \geq 1; \\ y \geq 2; \\ y=4-x; \end{cases}$$

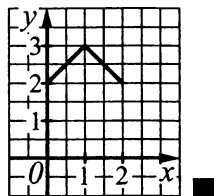
$$\begin{cases} 1 \leq x \leq 2; \\ y = 4 - x. \end{cases}$$

2. Нехай $x-1 \leq 0$; $y-2 \geq 0$. Тоді матимемо систему:
$$\begin{cases} x-1 \leq 0; \\ y-2 \geq 0; \\ -(x-1)+y-2=1; \\ y=3+x-1; \end{cases} \quad \begin{cases} x \leq 1; \\ y \geq 2; \\ y=x+2; \end{cases} \quad \begin{cases} 0 \leq x \leq 1; \\ y=x+2. \end{cases}$$

3. Нехай $x-1 \geq 0$; $y-2 \leq 0$. Тоді матимемо систему:
$$\begin{cases} x-1 \geq 0; \\ y-2 \leq 0; \\ x-1-y+2=1; \\ y=3-(x-1); \end{cases} \quad \begin{cases} x \geq 1; \\ y \leq 2; \\ x-y=0; \\ x+y=4; \end{cases} \quad \begin{cases} x \geq 1; \\ y \leq 2; \\ x=2; \\ y=2; \end{cases} \quad (2; 2).$$

4. Нехай $x-1 \leq 0$; $y-2 \leq 0$. Тоді матимемо систему:
$$\begin{cases} x-1 \leq 0; \\ y-2 \leq 0; \\ -x+1-y+2=1; \\ y=3+x-1; \end{cases} \quad \begin{cases} x \leq 1; \\ y \leq 2; \\ x+y=2; \\ -x+y=2; \end{cases} \quad \begin{cases} x \leq 1; \\ y \leq 2; \\ x=0; \\ y=2; \end{cases} \quad (0; 2).$$

Загальний розв'язок системи зручно зобразити графічно.



Завдання 20.1–20.23 мають по п'ять варіантів відповідей, з яких тільки **ОДНА ПРАВИЛЬНА**. Оберіть правильну, на Вашу думку, відповідь.

20.1. Розв'язати систему рівнянь
$$\begin{cases} x+3y=14; \\ 2y-x=6 \end{cases}$$
 і знайти добуток компонентів розв'язку.

А	Б	В	Г	Д
16	20	8	$1\frac{1}{5}$	$13\frac{1}{3}$

20.2. Дано систему рівнянь
$$\begin{cases} x+y=3; \\ 2x-3y=-4. \end{cases}$$
 Яке утвориться рівняння, якщо з першого рівняння виразити змінну y через x , і отриманий вираз підставити у друге рівняння замість y ?

А	Б	В	Г	Д
$5x+3=-4$	$3x-9=-4$	$5x-3=-4$	$5x+9=-4$	$5x-9=-4$

- 20.3. Знайти суму компонентів $x_0 + y_0 + z_0$ розв'язку системи рівнянь
$$\begin{cases} x + y = -2; \\ y + z = -11; \\ x + z = 1. \end{cases}$$

А	Б	В	Г	Д
-6	-12	-18	-24	-3

- 20.4. Розв'язати систему рівнянь
$$\begin{cases} 3x + 4y = -20, \\ 5x + 2y = -10. \end{cases}$$

А	Б	В	Г	Д
(3; 4)	(0; -5)	(7; 9)	(2; -4)	(1; -7,5)

- 20.5. Знайти середнє арифметичне для значень чисел x та y , які є розв'язками системи рівнянь
$$\begin{cases} 3x + 2y = 7; \\ -x + 3y = 16. \end{cases}$$

А	Б	В	Г	Д
3	2	1	4	3,5

- 20.6. Знайти компонент x_0 розв'язку $(x_0; y_0)$ системи рівнянь
$$\begin{cases} \frac{2}{x} + \frac{1}{y} = 4; \\ \frac{1}{x} - \frac{3}{y} = 9. \end{cases}$$

А	Б	В	Г	Д
3	$\frac{1}{3}$	147	91	$1\frac{6}{7}$

- 20.7. Скільки розв'язків має система рівнянь
$$\begin{cases} x^2 + y^2 = 5; \\ x^2 - 2y^2 = -7? \end{cases}$$

А	Б	В	Г	Д
Один	два	три	чотири	жодного

- 20.8. Скільки розв'язків має система рівнянь
$$\begin{cases} |x - 3| - y = 0; \\ xy - 4 = 0? \end{cases}$$

А	Б	В	Г	Д
Один	два	три	чотири	жодного

- 20.9. Розв'язати систему рівнянь
$$\begin{cases} x - y = 16; \\ \sqrt{x} + \sqrt{y} = 8 \end{cases}$$
 і вказати добуток компонентів її розв'язку.

А	Б	В	Г	Д
34	128	64	15	225

- 20.10. Розв'язати систему рівнянь
$$\begin{cases} 3^{x+y} = 27; \\ 4^{x-y} = 0,25 \end{cases}$$
 і вказати компонент x_0 її розв'язку $(x_0; y_0)$.

А	Б	В	Г	Д
0	-1	1	2	-2

20.11. Розв'язати систему рівнянь $\begin{cases} \lg(x+y) = 2; \\ \lg(x-y) = 1 \end{cases}$ і вказати компонент y_0 її розв'язку $(x_0; y_0)$.

А	Б	В	Г	Д
35	110	90	55	45

20.12. Знайти суму компонентів розв'язку системи рівнянь $\begin{cases} \lg x + \lg y = \lg 2; \\ x^2 + y^2 = 5. \end{cases}$

А	Б	В	Г	Д
-3	3	$\sqrt{7}$	9	7

20.13. Яка з наведених систем за будь-яких значень p має єдиний розв'язок?

А	Б	В	Г	Д
$\begin{cases} 2y = x; \\ y = \frac{x}{2} + p \end{cases}$	$\begin{cases} \frac{x}{2} + y = 3; \\ x + 2y = p \end{cases}$	$\begin{cases} x - 2y = 5; \\ 2x - 4y = p \end{cases}$	$\begin{cases} x + 2y = 3; \\ x - y = p \end{cases}$	$\begin{cases} x - 3y = 5; \\ 6y - 2x = p \end{cases}$

20.14. За якого значення a система рівнянь $\begin{cases} 2x - y = 5; \\ x + ay = 2 \end{cases}$ не має розв'язків?

А	Б	В	Г	Д
0,5	-0,5	-1	2,5	10

20.15. За якого значення a система рівнянь $\begin{cases} 3x + y = -15; \\ -x - ay = 5 \end{cases}$ має безліч розв'язків?

А	Б	В	Г	Д
$\frac{1}{3}$	$-\frac{1}{3}$	3	-3	-1

20.16. За яких значень a і b система рівнянь $\begin{cases} 6x + by = 5a; \\ 5ax - 6y = b \end{cases}$ має розв'язок $(-1; 2)$?

А	Б	В	Г	Д
$a = 2, b = 2$	$a = \frac{1}{2}, b = \frac{1}{2}$	$a = -\frac{1}{2}, b = \frac{1}{2}$	$a = -2, b = -2$	$a = -1, b = 2$

20.17. Скільки розв'язків системи рівнянь $\begin{cases} x^2 - 2xy + y^2 = 4; \\ x^2 + xy = 4 \end{cases}$ містять нульовий компонент?

А	Б	В	Г	Д
Один	два	три	чотири	жодного

20.18. Знайти $|x - y|$, якщо $\begin{cases} x^2 - xy = 79, \\ y^2 - xy = 2. \end{cases}$

А	Б	В	Г	Д
8	9	$\sqrt{77}$	7	81

20.19. Скільки розв'язків має система рівнянь $\begin{cases} |x| - |y| = 0; \\ x^2 - 4x = 0? \end{cases}$

А	Б	В	Г	Д
Один	два	три	більше, ніж три	жодного

20.20. За якого значення a система рівнянь $\begin{cases} x^2 + y^2 = 4; \\ x - y = a \end{cases}$ має єдиний розв'язок?

А	Б	В	Г	Д
$a = 3$	$a = 2\sqrt{3}$	$a = -2\sqrt{2}$ або $a = 2\sqrt{2}$	$a = -2\sqrt{3}$ або $a = 2\sqrt{3}$	$a = -\sqrt{2}$ або $a = \sqrt{2}$

20.21. Скільки розв'язків має система рівнянь $\begin{cases} xy = 6; \\ yz = 8; \\ zx = 12? \end{cases}$

А	Б	В	Г	Д
Один	два	три	чотири	жодного

20.22. За якого значення k пряма $y = kx + 2$ проходить через точку перетину прямих $x + y = 5$ і $x - y = 1$?

А	Б	В	Г	Д
-2	-1	0	1	2

20.23. За якого значення a система рівнянь $\begin{cases} \frac{1}{x} + \frac{1}{y} = 1\frac{1}{2}; \\ \frac{1}{x} - \frac{1}{y} = -\frac{1}{2}; \\ ax + y = 13 \end{cases}$ має розв'язок?

А	Б	В	Г	Д
-2	-3	4	5	6

Завдання 20.24–20.28 передбачають установлення відповідності. До кожного рядка, позначеного ЦИФРОЮ, доберіть один відповідник, позначений БУКВОЮ, і поставте позначки на перетині відповідних рядків (цифри) і колонок (букви).

20.24. Установити відповідність між системами рівнянь (1–4) та кількістю їх розв'язків (А–Д).

1 $\begin{cases} x + 2y = 4; \\ 1,5x + 3y = 6 \end{cases}$

А жодного

2 $\begin{cases} 2x + 3y = 10; \\ 4x + 6y = 7 \end{cases}$

Б один

В два

3 $\begin{cases} 2x + 3y = 7; \\ 4x + 5y = 19 \end{cases}$

Г три

Д безліч

4 $\begin{cases} |x| - y = 3; \\ |x| + y = 3 \end{cases}$

20.25. Установити відповідність між системами рівнянь (1–4) та першими компонентами x_0 розв’язків $(x_0; y_0)$ цих систем (А–Д).

- | | | |
|----------|---|-------------|
| 1 | $\begin{cases} x + y = 20; \\ x - y = 14 \end{cases}$ | А 8 |
| | | Б 10 |
| | | В 12 |
| 2 | $\begin{cases} x + y = 19; \\ 2x - y = 5 \end{cases}$ | Г 14 |
| | | Д 17 |
| 3 | $\begin{cases} x + y = 16; \\ x - 2y = 4 \end{cases}$ | |
| 4 | $\begin{cases} x - 3y = 1; \\ x + y = 13 \end{cases}$ | |

20.26. Установити відповідність між системами рівнянь (1–4) та рівняннями (А–Д), які утворюються з цих систем при їх розв’язуванні способом підстановки.

- | | | |
|----------|--|-----------------------------|
| 1 | $\begin{cases} x - y = 1; \\ xy = 20 \end{cases}$ | А $y^2 + 20y = 0$ |
| | | Б $y^2 + y + 20 = 0$ |
| | | В $y^2 + y - 20 = 0$ |
| 2 | $\begin{cases} x + y = 1; \\ xy = -20 \end{cases}$ | Г $y^2 - y + 20 = 0$ |
| | | Д $y^2 - y - 20 = 0$ |
| 3 | $\begin{cases} x - y = 1; \\ xy = -20 \end{cases}$ | |
| 4 | $\begin{cases} x + y = 1; \\ xy = 20 \end{cases}$ | |

20.27. Установити відповідність між системами рівнянь (1–4) та першими компонентами x_0 розв’язків $(x_0; y_0)$ цих систем (А–Д).

- | | | |
|----------|---|-------------|
| 1 | $\begin{cases} \frac{1}{x} + \frac{5}{y} = \frac{1}{6}; \\ \frac{1}{x} - \frac{5}{y} = -\frac{1}{12} \end{cases}$ | А 6 |
| | | Б 12 |
| | | В 16 |
| | | Г 20 |
| | | Д 24 |
| 2 | $\begin{cases} \sqrt{x} + 3\sqrt{y} = 13; \\ \sqrt{x} - \sqrt{y} = 1 \end{cases}$ | |
| 3 | $\begin{cases} 3^{x-y} = 81; \\ 2^{x+\frac{y}{2}} = 128 \end{cases}$ | |
| 4 | $\begin{cases} \log_2(x+y) = 4; \\ \log_2(x-y) = 3 \end{cases}$ | |

20.28. Установити відповідність між системами рівнянь (1–4) та кількістю їх розв’язків (А–Д).

- | | | |
|---|--|-----------|
| 1 | $\begin{cases} xy = 1; \\ x^2 + y^2 = 4 \end{cases}$ | А жодного |
| 2 | $\begin{cases} xy = 1; \\ x - y = 0 \end{cases}$ | Б один |
| 3 | $\begin{cases} xy = 1; \\ x + y = 0 \end{cases}$ | В два |
| 4 | $\begin{cases} xy = 0; \\ x^2 - y = 0 \end{cases}$ | Г три |
| | | Д чотири |

Розв’яжіть завдання 20.29–20.44. Відповідь запишіть десятковим дробом.

20.29. Розв’язати систему рівнянь $\begin{cases} 2x + 5y = 12; \\ 3x - 4y = -5. \end{cases}$ У відповідь записати найбільшу суму $x_0 + y_0$, де $(x_0; y_0)$ — розв’язок системи.

20.30. Вказати значення параметра a , за якого система $\begin{cases} ax + 3y = 9, \\ 12x + ay = 18 \end{cases}$ має безліч розв’язків.

20.31. Розв’язати систему рівнянь $\begin{cases} x + y = 7; \\ x^2 + y^2 = 25. \end{cases}$ У відповідь записати найбільшу суму $x_0 + y_0$, де $(x_0; y_0)$ — розв’язок системи.

20.32. Розв’язати систему рівнянь $\begin{cases} x^2 - xy + y^2 = 3; \\ x^3 + y^3 = 9. \end{cases}$ У відповідь записати найбільшу суму $x_0 + y_0$, де $(x_0; y_0)$ — розв’язок системи.

20.33. Розв’язати систему рівнянь $\begin{cases} x^2 - xy = 6; \\ y^2 - xy = 3. \end{cases}$ У відповідь записати найбільшу суму $x_0 + y_0$, де $(x_0; y_0)$ — розв’язок системи.

20.34. Розв’язати систему рівнянь $\begin{cases} x^2 - 3xy + y^2 = -1, \\ 2x^2 + 5xy - y^2 = 17. \end{cases}$ У відповідь записати найбільше значення x із розв’язків системи.

20.35. Розв’язати систему рівнянь $\begin{cases} \frac{3}{2x+y} + \frac{1}{2x-y} = \frac{2}{5}; \\ \frac{7}{2x+y} + \frac{2}{2x-y} = \frac{3}{5}. \end{cases}$ У відповідь записати найбільшу суму $x_0 + y_0$, де $(x_0; y_0)$ — розв’язок системи.

20.36. Розв’язати систему рівнянь $\begin{cases} \log_2 x - \log_2 y = 1; \\ y(x+2) = 40. \end{cases}$ У відповідь записати найбільшу суму $x_0 + y_0$, де $(x_0; y_0)$ — розв’язок системи.

20.37. Розв'язати систему рівнянь $\begin{cases} 2 \cdot 3^x - 4^y = 14; \\ 3^x + 4^y = 13. \end{cases}$ У відповідь записати найбільшу суму $x_0 + y_0$, де $(x_0; y_0)$ — розв'язок системи.

20.38. Розв'язати систему рівнянь $\begin{cases} 10^{1+\lg(x+y)} = 40; \\ \lg(x-y) + \lg(x+y) = 3\lg 2. \end{cases}$ У відповідь записати найбільшу суму $x_0 + y_0$, де $(x_0; y_0)$ — розв'язок системи.

20.39. Розв'язати систему рівнянь $\begin{cases} \sqrt{x-1} + \sqrt{y+1} = 10; \\ \sqrt{x-1} \cdot \sqrt{y+1} = 16. \end{cases}$ У відповідь записати найбільшу суму $x_0 + y_0$, де $(x_0; y_0)$ — розв'язок системи.

20.40. Розв'язати систему рівнянь $\begin{cases} xy = 1; \\ yz = 2; \\ zx = 8. \end{cases}$ У відповідь записати найбільшу суму $x_0 + y_0 + z_0$, де $(x_0; y_0; z_0)$ — розв'язок системи.

20.41. Розв'язати систему рівнянь $\begin{cases} 4xy - \frac{x}{y} = 30; \\ 3xy + \frac{2x}{y} = 28. \end{cases}$ У відповідь записати найбільшу суму $x_0 + y_0$, де $(x_0; y_0)$ — розв'язок системи.

20.42. Розв'язати систему рівнянь $\begin{cases} 2x^2 + xy - y^2 = 0; \\ x^2 - 3xy + y^2 = -1. \end{cases}$ У відповідь записати найбільшу суму $x_0 + y_0$, де $(x_0; y_0)$ — розв'язок системи.

20.43. Розв'язати систему рівнянь $\begin{cases} \log_8(xy) = 3\log_8 x \cdot \log_8 y; \\ 4\log_8 \frac{x}{y} = \frac{\log_8 x}{\log_8 y}. \end{cases}$ У відповідь записати найбільшу суму $x_0 + \sqrt{2} y_0$, де $(x_0; y_0)$ — розв'язок системи.

20.44. За якого значення a сума $x + y$ набуває найменшого значення, якщо $\begin{cases} 2x + 3y = 2a^2 - 12a + 8; \\ 3x - 2y = 3a^2 + 8a + 12? \end{cases}$