

Тест
(Географія 10 клас)
Контрольна робота з тем «Загальна характеристика Азії. Країни Азії»
I варіант

I рівень (1-3 бали)

(правильне розв'язання кожного завдання оцінюється в 0,5 бала).

1. Скільки у Азії розташовано держав та територій?
А) 49
Б) 50
В) 45
Г) 55
2. Який тип відтворення населення має більша частина азіатських країн?
А) I тип
Б) II тип
В) III тип
Г) IV тип
3. Оберіть країну з найвищим рівнем урбанізації:
А) Китай
Б) КНР
В) Афганістан
Г) Японія
4. Найбільші запаси кам'яного вугілля в Азії зосереджені:
А) Індії
Б) Росії
В) Китаї
Г) Казакстані
5. В яких країнах Азії знаходяться найбільші за площею плантації чаю?
А) Китай, Індія, Пакистан
Б) Індія, Китай, Шрі-Ланка
В) Індонезія, Філіпіни, Тайланд
Г) Бангладеш, Індонезія, Японія
6. Як називається грошова одиниця Японії?
А) фунт
Б) єна
В) юань
Г) рупія

II рівень (4-6 бали)



(правильне розв'язання кожного завдання оцінюється в 1 бал).

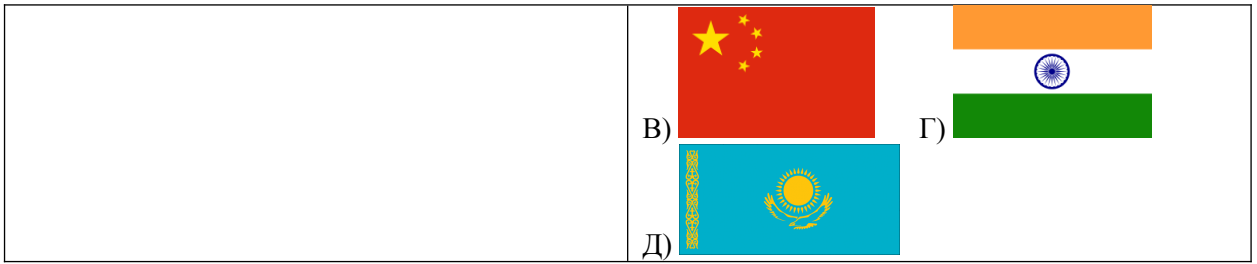
7. Встановіть відповідність між країнами та регіонами в яких вони розташовані.
- | | |
|----------------------|--------------------------|
| 1) Монголія | А) Південно-Західна Азія |
| 2) Філіпіни | Б) Східна Азія |
| 3) Індія | В) Центральна Азія |
| 4) Саудівська Аравія | Г) Південно-Східна Азія |
| | Д) Південна Азія |

8. Установіть відповідність між країнами та їх столицями.

1. Казахстан	А) Анкара
2. Монголія	Б) Астана
3. Саудівська Аравія	В) Ер-Ріяд
4. Туреччина	Г) Улан-Батор
	Д) Ташкент

9. Встановіть відповідність між країнами та їх державним прапором.

1. Китай		
2. Індія		
3. Японія		
4. Туреччина		
	А)	Б)



III рівень (7-9 балів)

(правильне розв'язання кожного завдання оцінюється в 1,5 бала).

10. Дайте відповіді на запитання.

- Яка країна є батьківщиною цукрової тростини?
- Чому південну частину Китаю називають «Зеленим Китаєм»?
- Назвіть провідні автомобілебудівні компанії Японії.

11. Дайте відповіді на запитання.

- Який вид транспорту в Індії займає провідне місце?
- Як називають маленькі японські сади, де ростуть карликові дерева?
- Яка промисловість кольорової металургії в Індії є найрозвиненішою?

IV рівень (10-12 балів)

(правильне розв'язання завдання оцінюється в 3 бали).

- 12.** Охарактеризуйте розміщення населення в Азії. Де зосереджені ареали його найбільшої щільності та поясніть чим зумовлене їх розташування. Назвіть, які демографічні проблеми виникають через зростання кількості населення.

Тест
(Географія 10 клас)
Контрольна робота з тем «Загальна характеристика Азії. Країни Азії»

II варіант

I рівень (1-3 бали)

(правильне розв'язання кожного завдання оцінюється в 0,5 бала).

- 1. Які країни Азії досягли найбільшого успіху в аквакультурі?**
А) Китай, Японія
Б) Японія, Індія
В) Таїланд, Індонезія
Г) Філіпіни, Малайзія
- 2. Яка країна є лідером серед країн Азії за обсягом виробництва електричного струму на всіх видах електростанцій?**
А) Пакистан
Б) Республіка Корея
В) Китай
Г) Індія
- 3. Оберіть країну що за формою правління є конституційною монархією:**
А) Японія
Б) Китай
В) Індія
Г) Казахстан
- 4. В яких країнах функціонують високошвидкісні залізниці?**
А) Японія, Республіка Корея, Китай
Б) Китай, Японія, Індія
В) Казахстан, Індія, Таїланд
Г) Китай, Японія, Монголія
- 5. Державна мова Китаю:**
А) англійська
Б) хінді
В) хань
Г) монгольська
- 6. Домінуюча релігія в Японії:**
А) синтоїзм
Б) іудаїзм
В) конфуціанство
Г) буддизм

II рівень (4-6 бали)






(правильне розв'язання кожного завдання оцінюється в 1 бал).

- 7. Встановіть відповідність між країнами та регіонами в яких вони розташовані.**
- | | |
|-------------------------------|--------------------------|
| 1) Казахстан | А) Південно-Західна Азія |
| 2) Японія | Б) Центральна Азія |
| 3) Таїланд | В) Східна Азія |
| 4) Об'єднані Арабські Емірати | Г) Південно-Східна Азія |
| | Д) Північна Азія |

- 8. Установіть відповідність між країнами та їх столицями.**

1. Таїланд	А) Катманду
2. Філіпіни	Б) Джакарта
3. Індонезія	В) Бангкок
4. Непал	Г) Ханой
	Д) Маніла

9. Встановіть відповідність між країнами та їх державним прапором.

1. Китай 2. Індія 3. Японія 4. Туреччина	А) 	Б) 
	В) 	Г) 
	Д) 	

III рівень (7-9 балів)

(правильне розв'язання кожного завдання оцінюється в 1,5 бала).

10. Дайте відповіді на запитання.

- Чому північну частину Китаю називають «жовтий Китай»?
- Чому в Японії відсутній трубопровідний транспорт?
- Як називається вид мистецтва, який полягає у складанні композицій з живих або засушених рослин?

11. Дайте відповіді на запитання.

- Яку країну називають «збірним цехом» усього світу?
- Країна яка є світовим лідером з виробництва та експорту діамантів?
- В якій країні Азії виробляють майже 10% усіх ліків світу?

IV рівень (10-12 балів)

(правильне розв'язання завдання оцінюється в 3 бали).

- 12. Охарактеризуйте розміщення населення в Азії. Де зосереджені ареали його найбільшої щільності та поясніть чим зумовлене їх розташування. Назвіть, які демографічні проблеми виникають через зростання кількості населення.**